



3. Entoure la carte sur laquelle :

- il y a 1 seul trèfle (♣);
- il y a 2 carreaux (♦);
- il n'y a pas de pique (♠).




3. Entoure la carte sur laquelle :


- il y a 1 seul trèfle (♣);
- il y a 2 carreaux (♦);
- il n'y a pas de pique (♠).



① Combien de capuchons manque-t-il à Adrien?



$$\begin{array}{r} 23 \\ - 10 \\ \hline 13 \end{array}$$



$$23 - 10 = 13$$

Il manque 13 capuchons.

② A-t-elle assez d'argent?

$$\begin{array}{r} 89 \\ + 67 \\ \hline 156 \end{array}$$




89€

67€

$$89 + 67 = 156$$

Madame Lelu n'aura pas assez d'argent.

③ Combien d'œufs y a-t-il dans 17 boîtes de 10 œufs?



$$17 \times 10 = 170$$

Il y a 170 œufs.

④ Combien faut-il de bâtons de ski?

$$25 + 25 = 50$$

Il faut 50 bâtons de ski.