


Maths CE1 Utiliser les nombres

1 Des stations sont cachées sous les tunnels. Écris leur numéro.




2 Écris les nombres manquants.

140	141					146
-----	-----	--	--	--	--	-----

150	149	148				144
-----	-----	-----	--	--	--	-----

3 Range du plus grand au plus petit : 147 • 98 • 121 • 89 • 112 • 136

4 Écris ces nombres à leur place : 107 • 115 • 138 • 142 • 119 • 129



J'écris

115	116		118			122		125				
-----	-----	--	-----	--	--	-----	--	-----	--	--	--	--

5 Lola est sur la case 37, les dés lui indiquent d'avancer de 4 cases.

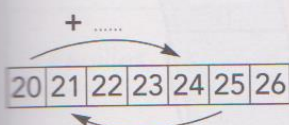
Colorie en **vert** sa case d'arrivée.

25	26	27	28	29	30	31	32	33	34	35	36	37	38	39	40	41	42	43	44	45	46	47	48	49	50
----	----	----	----	----	----	----	----	----	----	----	----	----	----	----	----	----	----	----	----	----	----	----	----	----	----

Max est sur la case 50, les dés lui indiquent de reculer de 6 cases.

Colorie en **bleu** sa case d'arrivée.

J'écris



Si j'avance de 4 cases, je peux écrire : $20 + \dots = \dots$

Si je recule de 4 cases, je peux écrire : $25 - \dots = \dots$