

EVALUATION MATHÉMATIQUES

1. Dictée de nombres.

2. Ecris en chiffres les nombres.

trois =

cinq =

dix =

neuf =

huit =

deux =

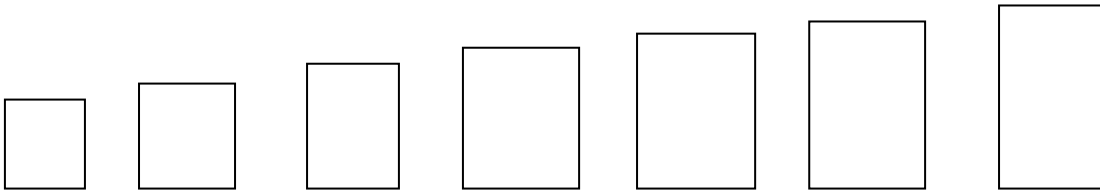
six =

quatre =

sept =

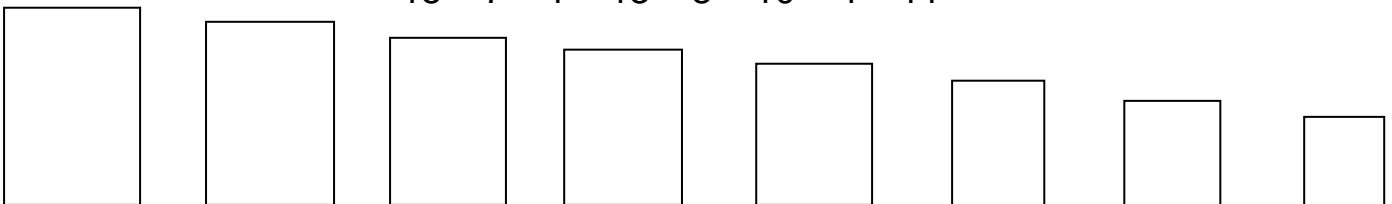
3. Range les nombres du plus petit au plus grand.

12 – 8 – 6 – 10 – 5 – 14 – 2 – 9



4. Range les nombres du plus grand au plus petit.

15 – 7 – 1 – 13 – 8 – 10 – 4 – 11



5. Complète avec <, > ou =.

12 2

10 5

14 7

15 6

8 8

2 7

1 11

12 16

Prénom :

Date :

EVALUATION MATHÉMATIQUES

1. Calcule (temps limité)

$1 + 1 = \dots\dots\dots$

$2 + 2 = \dots\dots\dots$

$4 + 4 = \dots\dots\dots$

$5 + 5 = \dots\dots\dots$

$2 + 3 = \dots\dots\dots$

$4 + 3 = \dots\dots\dots$

$3 + 5 = \dots\dots\dots$

$5 + 2 = \dots\dots\dots$

$6 + 4 = \dots\dots\dots$

$7 + 2 = \dots\dots\dots$

$2 + 8 = \dots\dots\dots$

$9 + 2 = \dots\dots\dots$

$9 + 1 = \dots\dots\dots$

$10 + 3 = \dots\dots\dots$

$10 + 5 = \dots\dots\dots$

2. Complète les suites de nombres.

0	1	2
---	---	---	-------	-------	-------	-------	-------

10	9	5
----	---	-------	-------	-------	---	-------	-------

10	11	15
----	----	-------	-------	-------	----	-------	-------

16	15	14
----	----	----	-------	-------	-------	-------	-------

3. Complète.

$6 + \dots\dots\dots = 10$

$3 + \dots\dots\dots = 10$

$0 + \dots\dots\dots = 10$

$8 + \dots\dots\dots = 10$

$9 + \dots\dots\dots = 10$

$4 + \dots\dots\dots = 10$

$5 + \dots\dots\dots = 10$

$7 + \dots\dots\dots = 10$


$2 + \dots\dots\dots = 10$

Prénom :

Date :


EVALUATION MATHÉMATIQUES

1. Relie l'araignée aux mouches avec ta règle.



2. Dessine :

- un vase sur la table.
- un ballon sous la table
- une chaise à gauche de la table
- un tabouret à droite de la table
- une poubelle entre la chaise et le chat.



Prénom :

Date :