

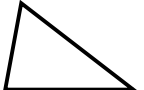

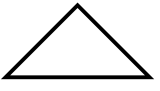
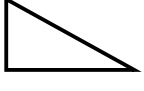
Prénom : .....

Date : .....

	<h1 style="margin: 0;">GÉOMÉTRIE</h1> <p style="margin: 0;">Les triangles (02)</p>
---	--

- Les figures géométriques à 3 côtés et 3 sommets : les triangles

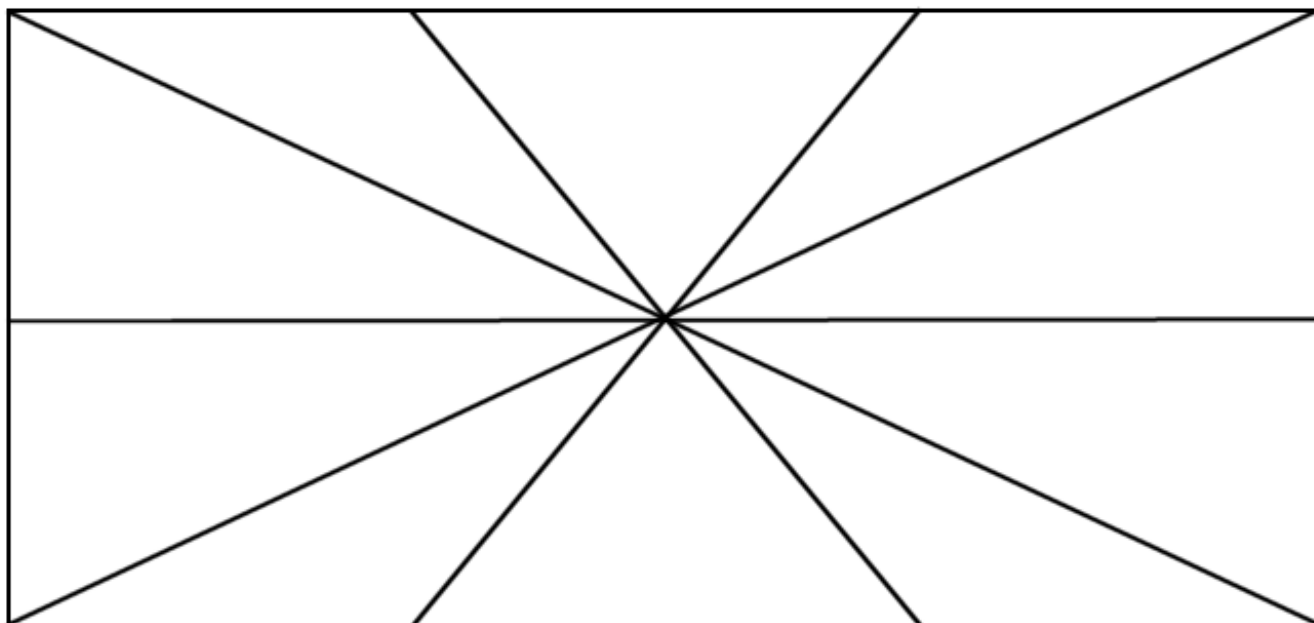
**1./ Complète :**

	: un triangle .....		: un triangle .....
	: un triangle .....		: un triangle .....

**2./ Complète :**

Noms de la figure	Particularités
Le triangle quelconque	.....
Le triangle isocèle	.....
Le triangle rectangle	.....
Le triangle équilatéral	.....

**3./ Combien de triangles composent cette figure :**



Triangle quelconque	Triangle équilatéral	Triangle isocèle	Triangle rectangle
.....	.....	.....	.....