

Rituels en autonomie : Jeudi 14 Mai

A) Pose et calcule les opérations suivantes.


$634 + 220 + 71$



$521 - 75$



$75 \times 6$




$93 \times 6$



$348 + 430 + 152$



$746 - 68$




B) Lis et écris l'heure : (quand tu peux, utilises les termes demie, quart, moins vingt-cinq, moins vingt, moins le quart, moins dix, moins cinq).







C) Résous les problèmes.

 **Petits Problèmes** 2

Moustik a trouvé 10 croquettes.  
Il veut les ranger dans ses deux gamelles.

**Combien y aura t-il de croquettes dans chaque gamelle ?** 

 **Petits Problèmes**

Lisa offre un collier de 7 perles à Moustik. Moustik enfile encore 5 perles sur le collier de Lisa.

**Combien y a-t-il de perles sur le collier maintenant?** 