

Prénom : .....	MATHÉMATIQUES connaître les doubles et les moitiés	Date : .....
----------------	---	--------------

**Partage** les dessins en 2 parts égales et **complète** :

**Complète :**

Le double de 1, c'est .

Le double de 2, c'est .

Le double de 3, c'est .

Le double de 4, c'est .

Le double de 5, c'est .

Le double de 6, c'est .

Le double de 7, c'est .

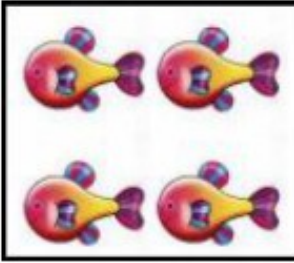


Le double de 8, c'est .

Le double de 9, c'est .

Le double de 10, c'est .

**Calcule :**

- |             |               |             |
|-------------|---------------|-------------|
| 1 + 1 = ... | 8 + 8 = ...   | 3 + 3 = ... |
| 7 + 7 = ... | 10 + 10 = ... | 9 + 9 = ... |
| 4 + 4 = ... | 2 + 2 = ...   | 6 + 6 = ... |
| 8 + 8 = ... | 5 + 5 = ...   | 0 + 0 = ... |

 <p>__ + __ = 4</p> <p>la moitié de 4 est __</p>	 <p>__ + __ = 10</p> <p>la moitié de 10 est __</p>	 <p>__ + __ = 16</p> <p>la moitié de 16 est __</p>
---	---	---

**Calcule** les doubles :

- |            |            |              |
|------------|------------|--------------|
| 1 + 1 = __ | 4 + 4 = __ | 3 + 3 = __   |
| 8 + 8 = __ | 5 + 5 = __ | 10 + 10 = __ |
| 7 + 7 = __ | 2 + 2 = __ | 1 + 1 = __   |
| 9 + 9 = __ | 6 + 6 = __ |              |

**Complète :**

- |                         |                         |
|-------------------------|-------------------------|
| La moitié de 8 est __.  | La moitié de 14 est __. |
| La moitié de 12 est __. | La moitié de 20 est __. |