
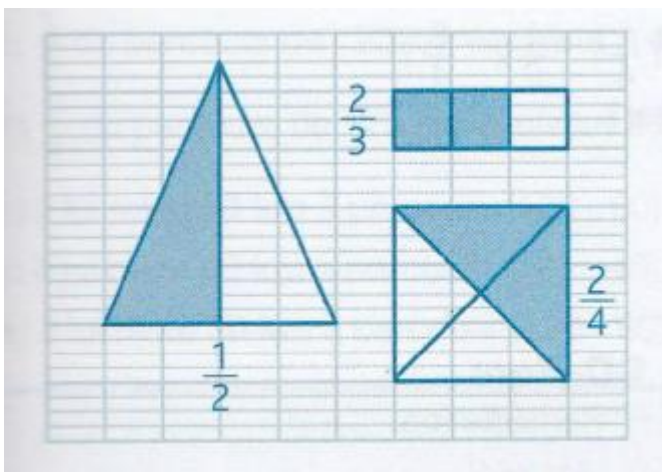


Mathématiques – Corrigé

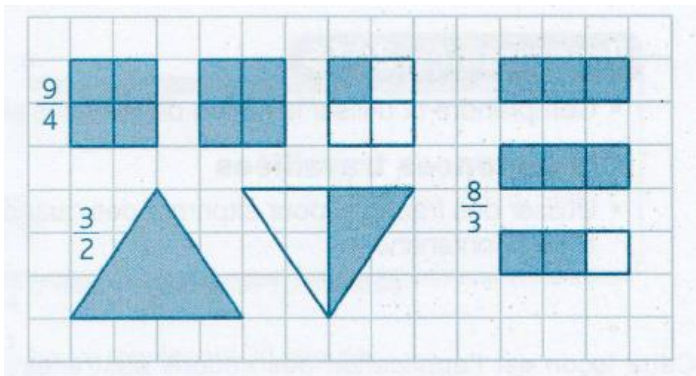
Exercice 5



Exercice 6



Exercice 7



Exercice 8

★ Pour représenter $\frac{1}{2}$, $\frac{3}{4}$ et $\frac{5}{2}$, toutes les représentations sont possibles et simples ; pour représenter $\frac{2}{3}$, il vaut mieux utiliser le rectangle partagé en 3 ou la bande.