

Prénom : .....

date : .....



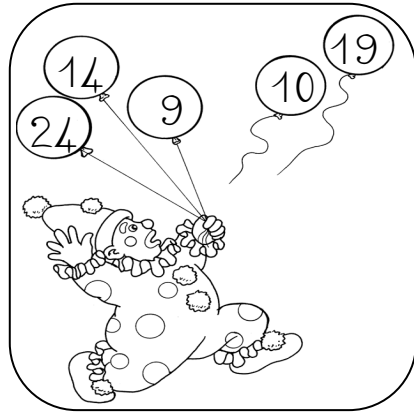

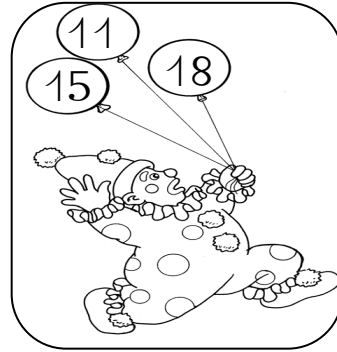




# Numération

CP

## Comparer, encadrer et ranger les nombres de 0 à 29

**Exercice 1 :** colorie à chaque fois, en jaune le ballon qui porte le plus petit nombre et en orange le ballon qui porte le plus grand nombre :



**Exercice 2 :** compare ces nombres avec  $<$ ,  $>$  ou  $=$  :

9 \_\_\_ 8

24 \_\_\_ 14

10 \_\_\_ 18

25 \_\_\_ 25

12 \_\_\_ 20

21 \_\_\_ 16

**Exercice 3 :** encadre le nombre donné par le nombre qui se trouve juste avant et juste après celui-ci :

\_\_\_  $<$  28  $<$  \_\_\_

\_\_\_  $<$  13  $<$  \_\_\_

\_\_\_  $<$  20  $<$  \_\_\_

\_\_\_  $<$  26  $<$  \_\_\_

**Exercice 4 :** range en ordre croissant (du plus petit au plus grand) :

19 - 8 - 12 - 21 - 15 - 23 - 14

⇒ \_\_\_\_\_

**Exercice 5 :** range en ordre décroissant (du plus grand au plus petit) :

16 - 7 - 28 - 18 - 24 - 22 - 13

⇒ \_\_\_\_\_