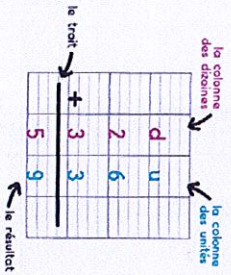


56 Poser et calculer des additions en colonnes

✓ Je sais poser et calculer des additions en colonnes.




Pour calculer $26+33$

- J'écris les unités sous les unités et les dizaines sous les dizaines.
- J'additionne d'abord les unités.
- J'additionne ensuite les dizaines.

$26+33=59$

1 Lola a planté 35 fleurs dans la cour de l'école. Sami en a planté 24. Complète le tableau et calcule.





d	u
3	5
2	4
<hr/>	
5	9

Je réponds:

Ils ont planté en tout 59 fleurs.

Reproduis le modèle.



2 Pose l'opération et calcule.

$24+52$

d	u
2	4
5	2
<hr/>	
7	6

$32+16$

d	u
3	2
1	6
<hr/>	
4	8

$13+54$

d	u
1	3
5	4
<hr/>	
6	7

3 Pose l'opération et calcule.

$14+45$

d	u
1	4
4	5
<hr/>	
5	9

$36+51$

d	u
3	6
5	1
<hr/>	
8	7

$62+17$

d	u
6	2
1	7
<hr/>	
7	9

$71+28$

d	u
7	1
2	8
<hr/>	
9	9

$43+35$

d	u
4	3
3	5
<hr/>	
7	8

$25+52$

d	u
2	5
5	2
<hr/>	
7	7

Il y a deux lapins gris de plus que de lapins blancs. Colorie les lapins gris.



lapins gris