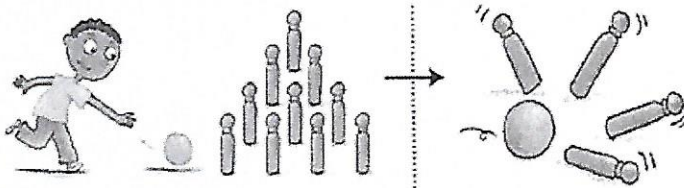


Objectif : Renforcer le sens de la soustraction.

1 Mehdi a 10 quilles. Il en fait tomber 4.  
Combien de quilles restent debout ?



Dessine les quilles restées debout.



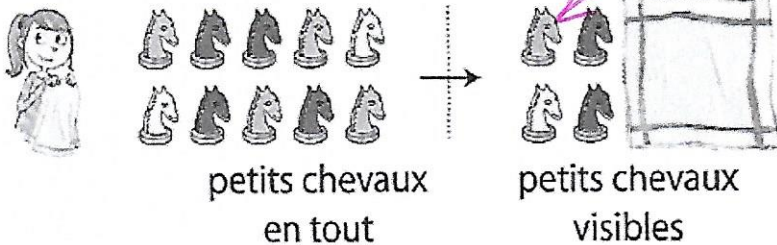
Complète la soustraction et la réponse.

quilles au départ    quilles tombées    quilles debout


$$\underline{10} \quad - \quad \underline{4} \quad = \quad \underline{6}$$

6 quilles restent debout.

2 Lilou a 10 petits chevaux. Elle en cache plusieurs sous la serviette.  
Elle en laisse 4 visibles. Combien de petits chevaux sont cachés sous la serviette ?



Dessine les petits chevaux cachés.

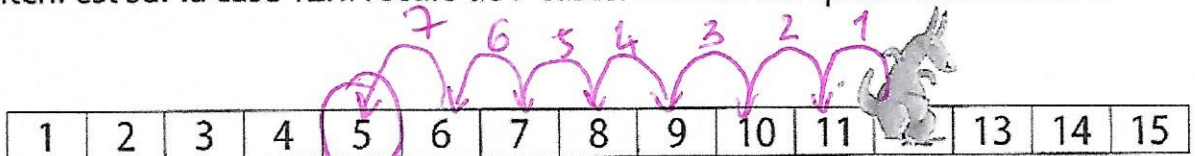


petits chevaux en tout    petits chevaux visibles    petits chevaux cachés

$$\underline{10} \quad - \quad \underline{4} \quad = \quad \underline{6}$$

6 petits chevaux sont cachés.

3 Litchi est sur la case 12. Il recule de 7 cases. Calcule sur quelle case il arrive.



case de départ    recul de 7 cases    case d'arrivée

$$\underline{12} \quad - \quad \underline{7} \quad = \quad \underline{5}$$