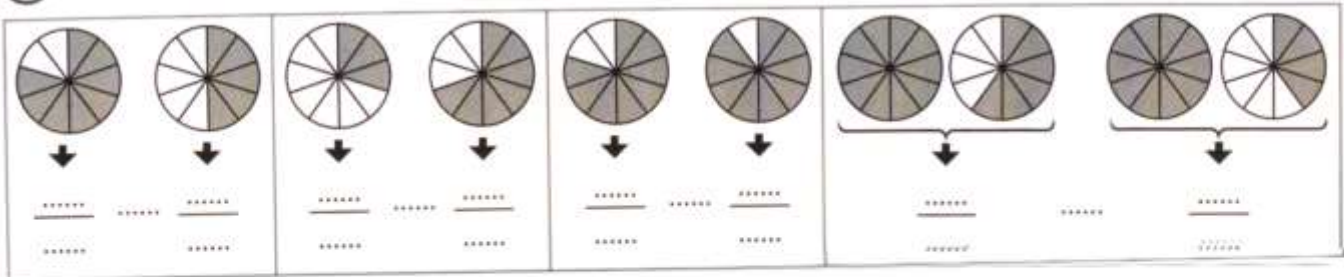
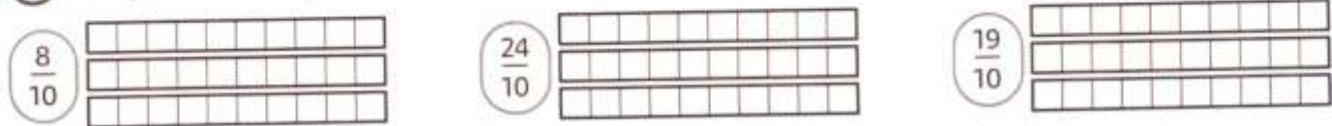


PARCOURS 1 JE M'ENTRAINE À UTILISER LES FRACTIONS DÉCIMALES


① Écris les fractions coloriées puis compare-les avec le signe < ou >.



② Chaque bande représente une unité. Colorie les fractions demandées.



③ Repasse en bleu la graduation qui correspond à $\frac{1}{10}$ et indique la fraction repérée par chacune des flèches.



④ Place les fractions suivantes sur la droite graduée : $\frac{88}{10}$ $\frac{93}{10}$ $\frac{75}{10}$ $\frac{90}{10}$ $\frac{84}{10}$ $\frac{102}{10}$ $\frac{79}{10}$



DÉSIGNER DES FRACTIONS DÉCIMALES

⑤ Écris ces fractions en lettres puis en chiffres.

| | | | |
|------------------|-------|----------------------------------|-------|
| $\frac{211}{10}$ | | Quatre-cent-vingt-neuf dixièmes | |
| $\frac{968}{10}$ | | Six-cent-soixante-seize dixièmes | |

⑥ Complète les égalités avec des nombres entiers.

$\frac{20}{10} = \dots$ $\frac{60}{10} = \dots$ $\frac{80}{10} = \dots$ $\frac{40}{10} = \dots$ $\frac{120}{10} = \dots$ $\frac{250}{10} = \dots$

