









Exercices : Mesures de masses

1) **Colorie** la bonne réponse

	g	kg		g	kg		g	kg
	g	kg		g	kg		g	kg

2) **Entoure** la masse de chaque objet.

 25 kg 25 g	 300 kg 300 g	 25 kg 25 g	 29 kg 29 g	 500 kg 500 g
-------------------------------------------------------------------------------------------------	---------------------------------------------------------------------------------------------------	-------------------------------------------------------------------------------------------------	-------------------------------------------------------------------------------------------------	-----------------------------------------------------------------------------------------------------

3) **Numérote** de 1 à 5 les enfants du plus léger au plus lourd.

				
35 kg	27 kg	43 kg	48 kg	37 kg
<input type="text"/>	<input type="text"/>	<input type="text"/>	<input type="text"/>	<input type="text"/>

4) **Complète** :

- a. 4 kg = _____ g
- b. 4380 g = _____ dag
- c. 9 kg 152 g = _____ g
- d. 3000 g = _____ kg
- e. 347 dag = _____ g
- f. 6500 g = _____ kg _____ g
- g. 2 kg = _____ hg

	kg	hg	dag	g
a				
b				
c				
d				
e				
f				
g				






Correction Exercices : Mesures de masses

1) **Colorie** la bonne réponse

	g	kg		g	kg	<i>farine</i> 	g	kg
	g	kg		g	kg		g	kg

succe

2) **Entoure** la masse de chaque objet.

 25 kg 25 g	 300 kg 300 g	 25 kg 25 g	 29 kg 29 g	 500 kg 500 g
-------------------------------------------------------------------------------------------------	---------------------------------------------------------------------------------------------------	-------------------------------------------------------------------------------------------------	-------------------------------------------------------------------------------------------------	-----------------------------------------------------------------------------------------------------

3) **Numérote** de 1 à 5 les enfants du plus léger au plus lourd.

				
35 kg	27 kg	43 kg	48 kg	37 kg
②	①	④	⑤	③

4) **Complète** :

- a. 4 kg = 4000 g
- b. 4380 g = 438 dag
- c. 9 kg 152 g = 9152 g
- d. 3000 g = 3 kg
- e. 347 dag = 3470 g
- f. 6500 g = 6 kg 500 g
- g. 2 kg = 20 hg

	kg	hg	dag	g
a	4	0	0	0
b	4	3	8	0
c	9	1	5	2
d	3	0	0	0
e	3	4	7	0
f	6	5	0	0
g	2	0		