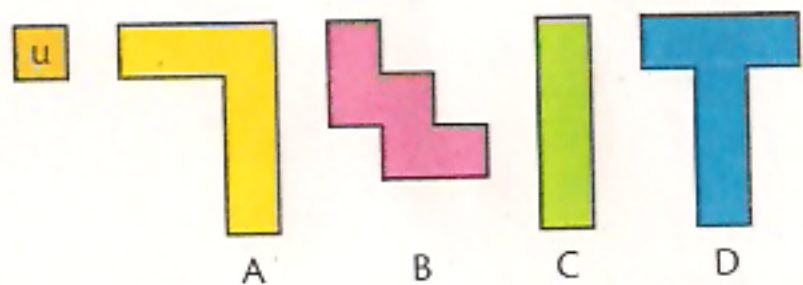


Mesure des aires

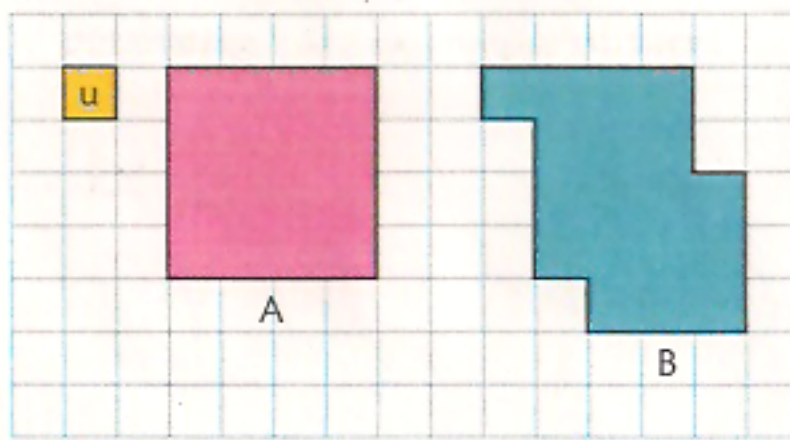
1 Exprime en nombre de carreaux l'aire des différentes figures.

Figure	Aire en nombre de carreaux
a	
b	
c	
d	
e	

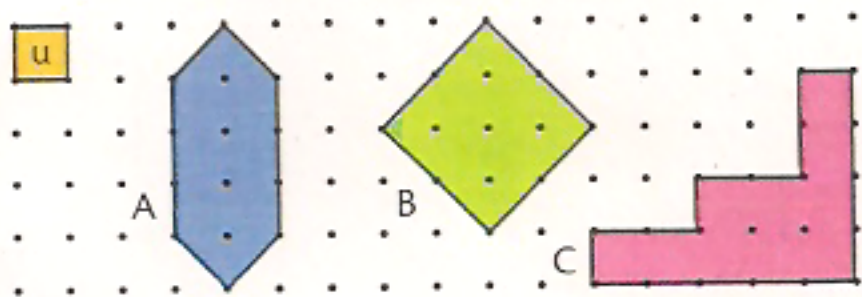
2 En utilisant l'unité d'aire proposée, détermine l'aire de chaque surface.



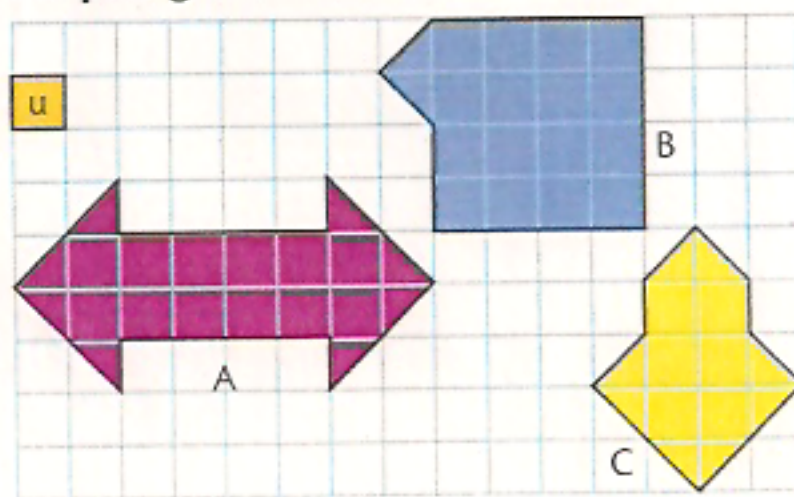
3 En utilisant l'unité d'aire proposée, détermine l'aire de chaque surface.



4 Détermine l'aire de chaque surface.



5 Range ces surfaces de la plus petite à la plus grande aire.



A = ... u
B = ... u
C = ... u

* Pour les exercices 2, 3 et 4, trace, à l'intérieur des figures, les unités (respecte bien la mesure).