

20 = vingt = 2d

40 = quarante = 4d

30 = trente = 3d

50 = cinquante = 5d

**1. Complète les bandes numériques.**

31	32	33	.....	.....	.....	37	38	.....	.....	.....	.....
----	----	----	-------	-------	-------	----	----	-------	-------	-------	-------

43	.....	45	.....	47	.....	49	.....	.....	.....
----	-------	----	-------	----	-------	----	-------	-------	-------

**2. Ecris les nombres en chiffres.**

vingt-huit : . . . . .

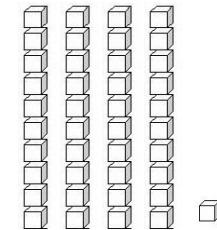
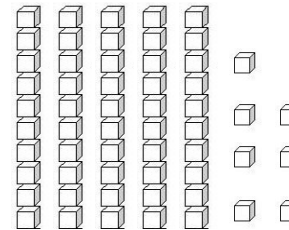
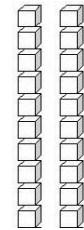
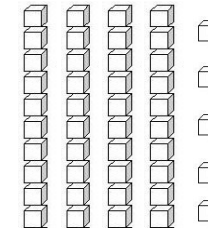
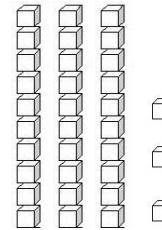
trente - trois : . . . . .

trente-sept : . . . . .

quarante et un : . . . . .

quarante-six : . . . . .

cinquante-quatre : . . . . .

**3. Ecris le nombre représenté.****5. Complète le tableau.**

Nombre précédent	Nombre	Nombre suivant
	32	
	45	
	50	
	39	
	48	

### 1. Complète les bandes numériques.

44	45	46	.....	.....	.....	.....	.....	.....	53
----	----	----	-------	-------	-------	-------	-------	-------	----

56	55	54	.....	.....	.....	.....	.....	.....	47
----	----	----	-------	-------	-------	-------	-------	-------	----

2	4	6	.....	.....	.....	.....	.....	.....	20
---	---	---	-------	-------	-------	-------	-------	-------	----

22	24	26	.....	.....	.....	.....	.....	.....	40
----	----	----	-------	-------	-------	-------	-------	-------	----

34	36	38	.....	.....	.....	.....	.....	.....	52
----	----	----	-------	-------	-------	-------	-------	-------	----

28	26	24	.....	.....	.....	.....	.....	.....	10
----	----	----	-------	-------	-------	-------	-------	-------	----

### 2. Ecris le nombre juste avant, et le nombre juste après.

	23	
--	----	--

	39	
--	----	--

	45	
--	----	--

	57	
--	----	--

	40	
--	----	--

	19	
--	----	--

### 3. Complète avec les signes < ; > ; =.

$23 \dots\dots 32$

$44 \dots\dots 40$

$56 \dots\dots 16$

$38 \dots\dots 38$

$40 + 7 \dots\dots 50 + 7$

$30 + 6 \dots\dots 30 + 5$