


## RENFORCEMENT (1)

Place ces fractions sur la droite.



$\frac{4}{6}$        $\frac{1}{6}$        $\frac{9}{6}$        $\frac{13}{6}$        $\frac{16}{6}$



$\frac{5}{10}$      $\frac{17}{10}$      $\frac{20}{10}$      $\frac{24}{10}$      $\frac{12}{10}$      $\frac{3}{10}$      $\frac{2}{10}$      $\frac{25}{10}$

Place ces fractions sur la droite qui convient.

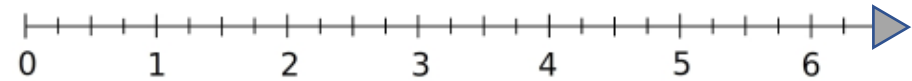
$\frac{3}{10}$      $\frac{4}{100}$      $\frac{7}{10}$      $\frac{8}{100}$      $\frac{9}{10}$      $\frac{11}{10}$      $\frac{12}{100}$      $\frac{1}{2}$



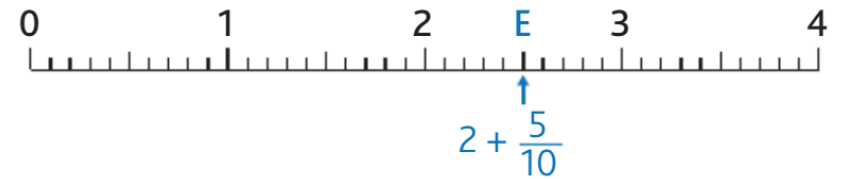
## RENFORCEMENT (2)

Place les étiquettes au bon endroit

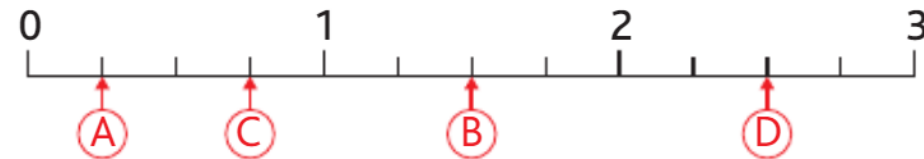
A:  $1 + \frac{1}{4}$     
 B:  $4 + \frac{2}{4}$     
 C:  $3 + \frac{3}{4}$     
 D:  $2 + \frac{3}{4}$



A:  $\frac{11}{10}$     
 B:  $1 + \frac{9}{10}$     
 C:  $3 + \frac{5}{10}$     
 D:  $\frac{40}{10}$



A quelle fraction correspond chaque lettre



A quelle fraction sur 100 correspond chaque lettre.

