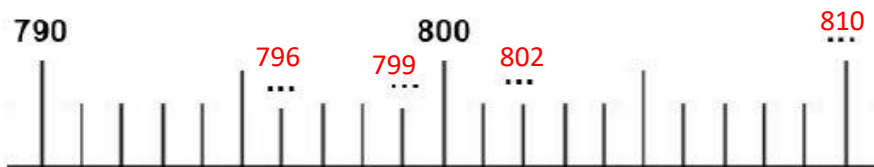
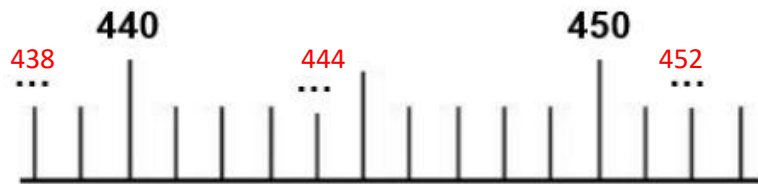
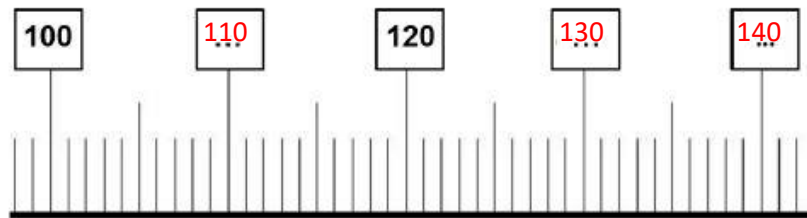


Exercice :

Ecris les nombres qui manquent :



Exercice :

Complète le tableau comme l'exemple de la 1^{ère} ligne

nombre	Nombre suivant	Nombre suivant terminé par 0 (dizaine suivante)
237	238	240
701	702	710
574	575	580
984	985	990

Exercice :

Calcule :

$$\begin{array}{r} 222 \\ + 333 \\ \hline 555 \end{array}$$

$$\begin{array}{r} 248 \\ + 121 \\ \hline 369 \end{array}$$

$$\begin{array}{r} 504 \\ + 437 \\ \hline 941 \end{array}$$

$$\begin{array}{r} 908 \\ + 45 \\ \hline 953 \end{array}$$