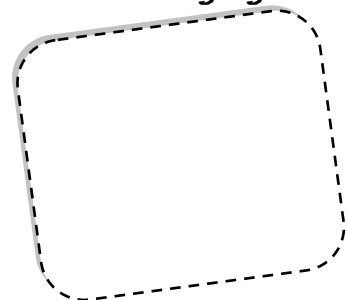


Fiche de calculs du soir  
Semaine du 03/02/14 au 07/02/14

Groupe 1 : Nicolas

<i>Pour le mardi</i>	$14 + 25 + 9$	$65 - 24$	
<i>Pour le lundi</i>	$29 + 29 + 11$	$56 + 13 + 7$	$68 - 37$

Points bonus gagnés :



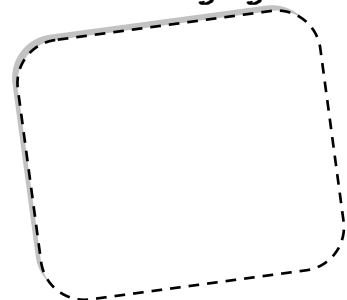
Fiche de calculs du soir  
Semaine du 03/02/14 au 07/02/14

Groupe 2 : Sandra, Axel, Maxime

Pour le mardi	$14 + 25 + 9$	$65 - 24$
Pour le jeudi	$25 + 65 + 14$	$57 - 39$
Pour le vendredi	$54 - 37$	$78 - 26$
Pour le lundi	<p>Problème :</p> <p>Lucie et Antoine collectionnent des figurines de super-héros. Lucie a 21 figurines et Antoine en possède 27.</p> <p><i>Ecris tes opérations</i></p> <p><u>Combien ont-ils de figurines à eux deux ?</u> .....</p> <p><u>Combien manque t-il de figurines à Lucie pour en avoir autant que Antoine ?</u> .....</p>	



Points bonus gagnés :



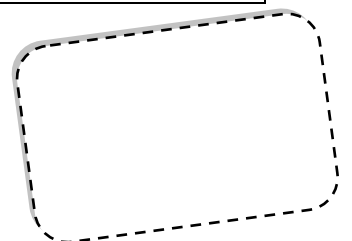
Fiche de calculs du soir  
Semaine du 03/02/14 au 07/02/14

Groupe 3 : Benjamin, Tony, Quentin

<i>Pour le mardi</i>	$114 + 205 + 9$	$605 - 214$
<i>Pour le jeudi</i>	$251 + 645 + 114$	$517 - 309$
<i>Pour le vendredi</i>	$514 - 387$	$578 - 266$
<i>Pour le lundi</i>	<p>Problème :</p> <p>Lucie et Antoine collectionnent des figurines de super-héros. Lucie a 41 figurines et Antoine en possède 15 de plus.</p> <p><i>Ecris tes opérations</i></p> <p><u>Combien ont-ils de figurines à eux deux ?</u></p> <p>.....</p> <p><u>Combien manque t-il de figurines à Lucie pour en avoir 100 ?</u></p> <p>.....</p>	



Points bonus gagnés :



Fiche de calculs du soir  
Semaine du 03/02/14 au 07/02/14

Groupe 4 : Alyson, Jessy, Jérémy

<i>Pour le mardi</i>	$1\ 214 + 5\ 205 + 987$	$6\ 105 - 2\ 914$
<i>Pour le jeudi</i>	$251 + 6\ 445 + 1\ 614$	$5\ 817 - 3\ 109$
<i>Pour le vendredi</i>	$5\ 714 - 3\ 987$	$5\ 678 - 2\ 266$
<i>Pour le lundi</i>	<p>Problème :</p> <p>Lucie et Antoine collectionnent des figurines de super-héros. Lucie a 65 figurines et Antoine en possède 18 de plus.</p> <p><i>Ecris tes opérations</i></p> <p><u>Combien ont-ils de figurines à eux deux ?</u></p> <p>.....</p> <p><u>Combien manque t-il de figurines à Antoine pour en avoir 100 ?</u></p> <p>.....</p>	



Points bonus gagnés :

