


# Le problème du jour 3


**Énoncé :** Tirobot a 15 chocolats . Il en donne 5 à Robette.

Combien de chocolats a maintenant Tirobot ?

**Je résous seul**

**Schéma**





**Calcul(s)**

$15 + 5 = 20$

---

**Phrase réponse :**  Tirobot a maintenant 20 chocolats.


# Le problème du jour 4


**Énoncé :** Robotine fabrique un collier de perles . Elle enfile 30 perles . Tirobot lui donne encore 10 perles.

Combien de perles , Robotine a-t-elle utilisé ?

**Je résous seul**

**Schéma**





**Calcul(s)**

$30 + 10 = 40$

---

**Phrase réponse :**  Robotine a utilisé 40 perles.