

Corrections / Lundi 20 avril

1. Enigme :

Qu'est-ce qui est cassé ? **Ce sont les œufs qui sont cassés.**

Exercice 1 - Rituel calcul mental

1 **PROBLÈME** Écris le plus grand nombre à chaque fois, tu trouveras le poids de l'animal.



a. Le renne

175 kg

272 kg

227 kg

99 kg

272 kg



b. Le bœuf musqué

407 kg

170 kg

379 kg

470 kg

470 kg



c. Le phoque

108 kg

180 kg

179 kg

138 kg

180 kg

2. Qui suis-je ?

a. 650

b. 700

c. 895

d. 791

3. Problème :

a) Paul a 159 euros. Sacha a 268 euros.

$$159 + 268 = 427$$

Ils peuvent acheter le canoë jaune qui coûte 409 euros.

$$b) 427 - 409 = 18$$

Il leur restera 18 euros.

Exercice 2 - Compréhension

1 Indique si ces phrases sont vraies, fausses ou si on ne le sait pas.

- L'histoire se passe dans un village d'Afrique. **Faux**
- Le père du héros lui offre un cheval nommé Avalanche. **Faux**
- Le cheval refuse d'avancer quand on lui en donne l'ordre. **Vrai**
- Le héros choisit comme monture un bison car il est mignon. **on ne le sait pas**
- Le héros impressionne tellement les habitants du village qu'ils se soumettent. **Vrai**



2 Choisis les adjectifs qui conviennent pour parler d'Avalanche.

Tu peux les écrire sur ton cahier.

gentil – ridicule – **calme** – **courageux** – malin – **fort** – sympathique

Exercice 4 - Maths

1 Recopie l'étiquette qui correspond au nombre demandé.

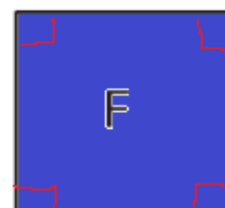
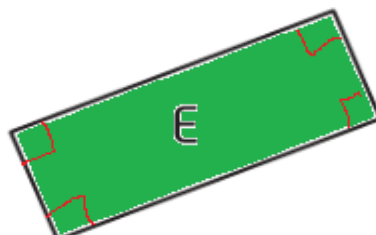
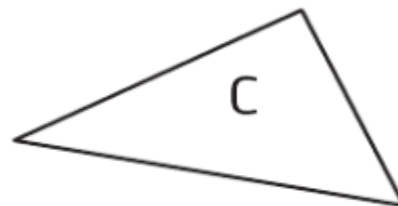
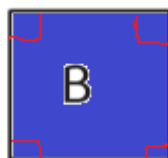
- deux-cent-cinquante 205 **250** 215 2150
- huit-cent-quatre-vingt-six 826 **886** 804 8 426

2 Écris ces nombres en chiffres.

- mille b. quatre-cent-neuf c. neuf-cents d. huit-cent-dix-sept
- 1000** **409** **900** **817**

Géométrie : le carré et le rectangle

1 Colorie les carrés en **bleu** et les rectangles en **vert**.
Code leurs angles droits.



2 Décris les figures.



Cette figure a4. côtés de même longueur,
...4... sommets et ...4... angles ..droits...

C'est un ...carré.....



Cette figure a2. côtés égaux deux à deux,
...4... sommets et ...4... angles ..droits...

C'est un ...rectangle.....

Exercice 5 - Etude du code : la lettre x

Je recherche

6 Trouve l'intrus dans chaque série. Explique ton choix.

a. exploit – klaxon – fixer – **exiger** – axe

b. exact – **excuse** – exemplaire – examiner

7 Indique le mot correspondant au dessin.



a. mineur

b. mixeur

c. mixte



a. télex

b. silex

c. index



a. boudeur

b. boxeur

c. box



a. larynx

b. lys

c. lynx

5 €

a. prix

b. fixe

c. dix