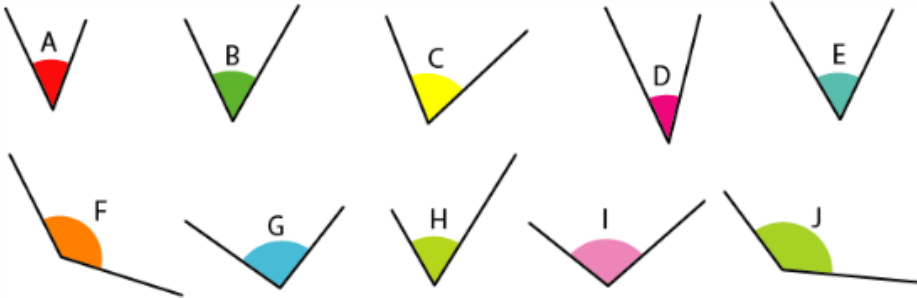


RENFORCEMENT (1)

Compare les angles à l'aide des signes $<$ $=$ $>$.
Tu peux demander du calque.



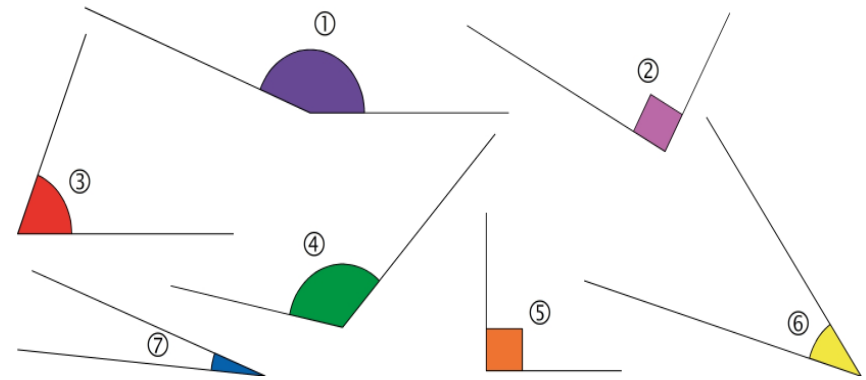
A B C D E F G H I J

Coche la bonne réponse.

| | | |
|---|---|---|
| | | |
| <input type="checkbox"/> droit <input type="checkbox"/> aigu <input type="checkbox"/> obtus | <input type="checkbox"/> droit <input type="checkbox"/> aigu <input type="checkbox"/> obtus | <input type="checkbox"/> droit <input type="checkbox"/> aigu <input type="checkbox"/> obtus |
| | | |
| <input type="checkbox"/> droit <input type="checkbox"/> aigu <input type="checkbox"/> obtus | <input type="checkbox"/> droit <input type="checkbox"/> aigu <input type="checkbox"/> obtus | <input type="checkbox"/> droit <input type="checkbox"/> aigu <input type="checkbox"/> obtus |

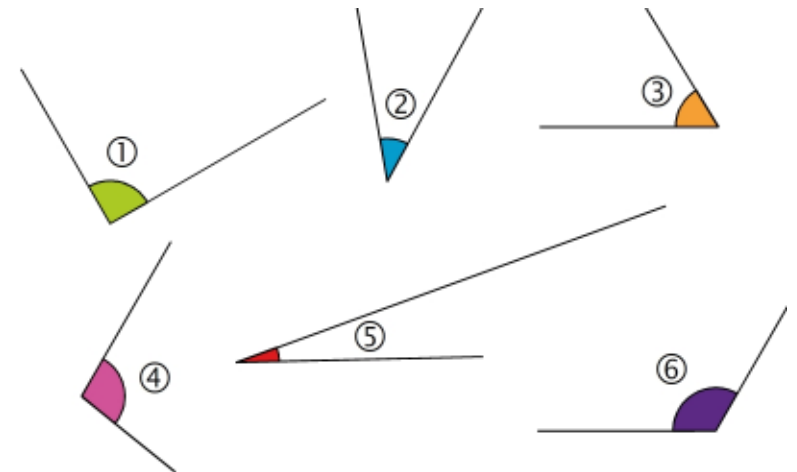
RENFORCEMENT (2)

Classe les angles dans le tableau.



| Angles obtus | Angles aigus | Angles droits |
|--------------|--------------|---------------|
| | | |

Classe les angles dans l'ordre croissant



.... < < < < <