

Séquence I – L’homme occupe sa planète

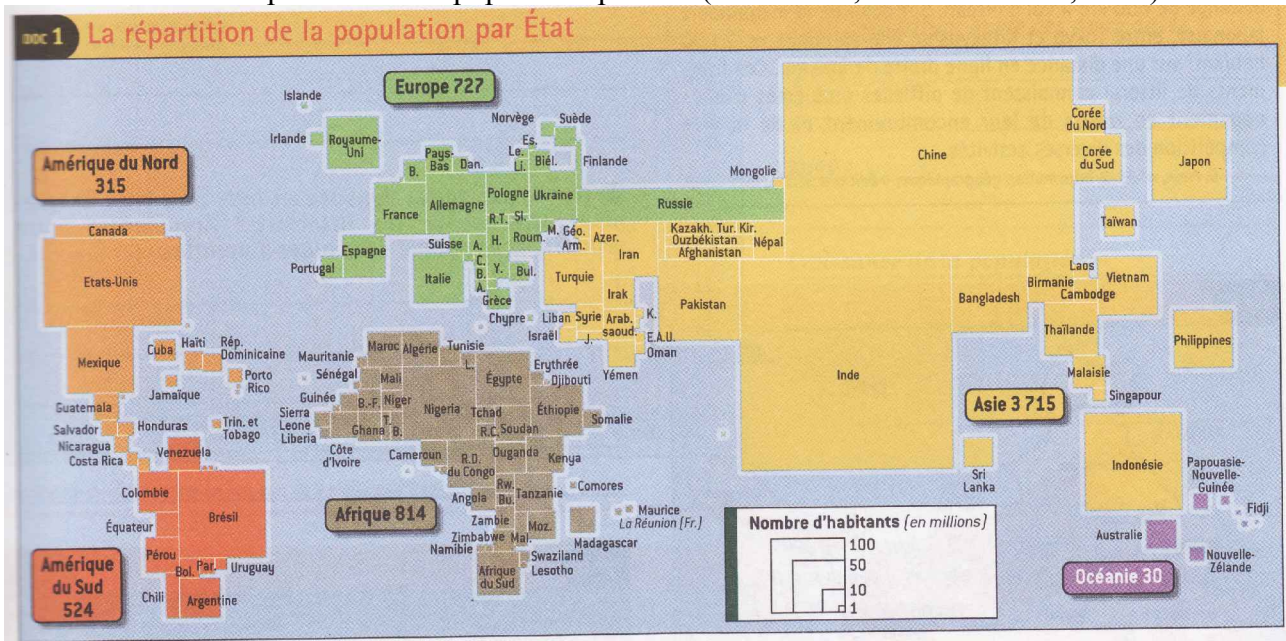
Séance 1 : Une répartition inégale

En quoi la répartition des hommes sur la planète peut être qualifiée d’inégale ?

Notions : densité de population, foyers de peuplement

Partie 1 : la répartition de la population dans le monde

DOC 1 : CARTE Répartition de la population par état (cahier BEP, édition Foucher, 2002)



Présenter le document 1.

Analyser l'échelle. Donner la signification de la carte.


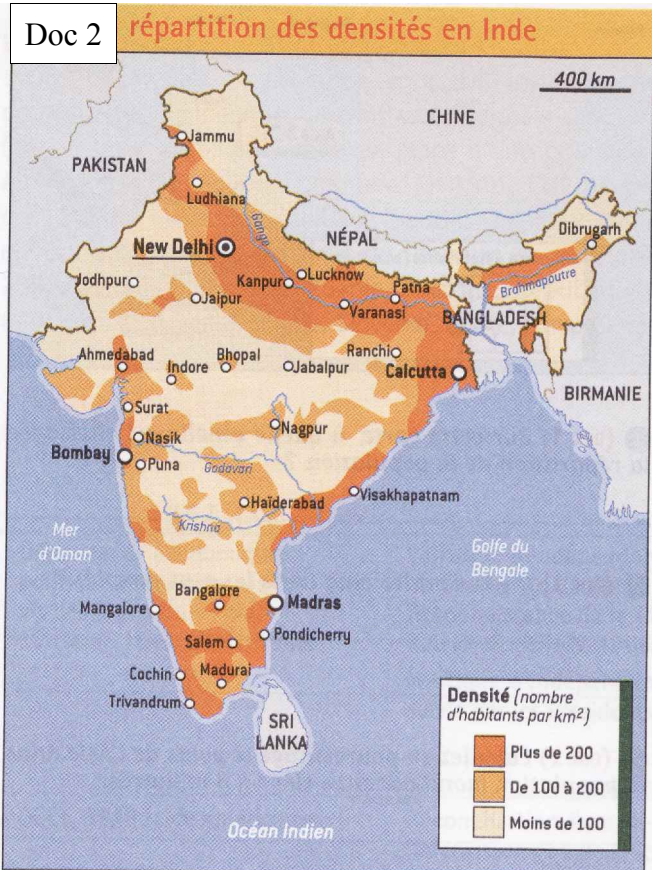
Donner les informations du document :

Critiquer le document. Pour vous aider, comparer le à « la planète vue de nuit ».

Définition densité de population :

Pour mieux comprendre les faits géographiques, nous devons changer d'échelle.

Partie 2 : la répartition de la population à l'échelle régionale - l'Inde



Doc 5 L'attraction de la mer

La plupart des littoraux sont beaucoup plus peuplés que les régions continentales voisines. La densité moyenne le long des littoraux du monde s'est révélée être de 167 habitants par km² en 1990, près de 5 fois supérieure à celle des terres habitées dont la densité est de 34 hab/km² [...]. Les littoraux les plus densément peuplés sont ceux qui, dans les pays développés, sont tournés vers les activités portuaires, industrielles et tertiaires en Europe, aux États-Unis et au Japon [...]. Sur le littoral de la mégalopole* américaine, entre Boston et Washington, la densité est de 1 200 hab./km² environ sur une distance de 650 km à vol d'oiseau. Sur celui de la mégalopole japonaise, entre Tokyo et Kitakyushu, elle approche de 2 000 hab/km² sur une distance en ligne droite de 900 km. Ces fragments de littoral connaissent de difficiles problèmes d'aménagement en raison de leur encombrement et de la vive compétition des diverses activités.

D. Noin, n° 63-2, Information géographique, © Éditions SEDES, avril 1999.

Sources : doc 2 et 4, Fichier BEP, Foucher, 2002 doc 3 indialacarte.fr

Doc 2, 3 et 4 : Signaler les zones à fortes densités. Expliquez les raisons :

Doc 5 : Donnez les raisons pour lesquelles les littoraux sont prisés selon l'auteur.

Critique du document : est-ce une règle générale ?

Synthèse écrite

Répartition de la population

.....

.....

.....

.....

.....

.....

.....

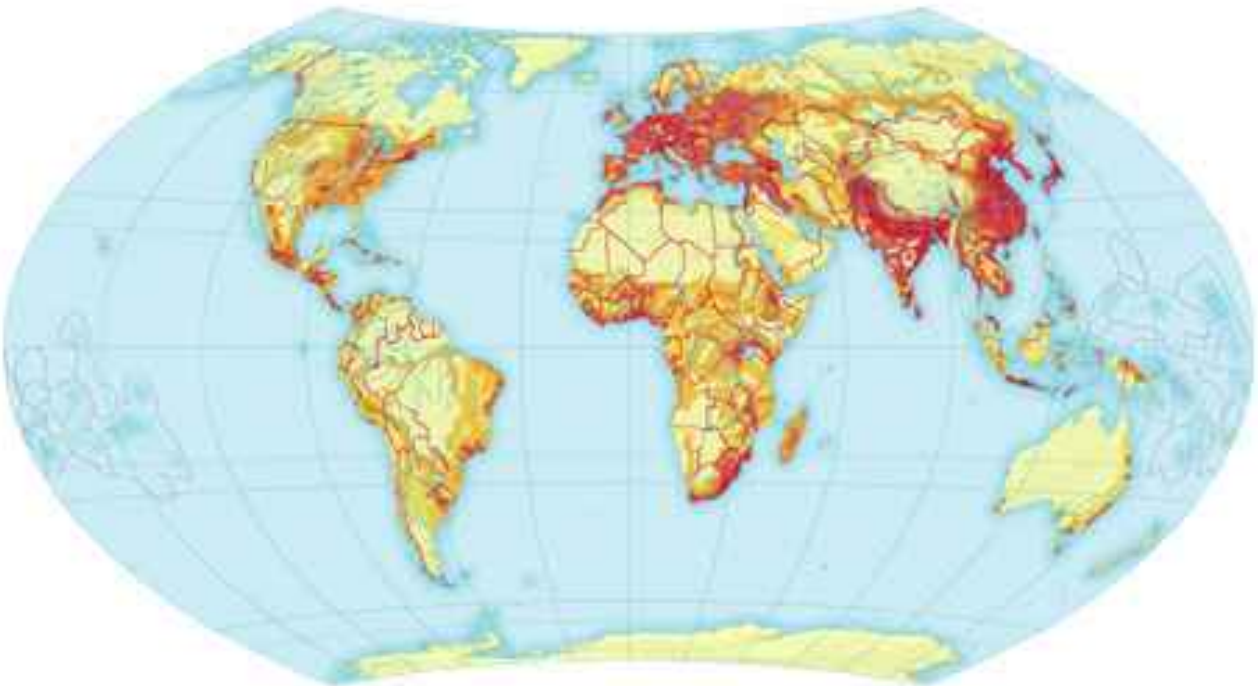
.....

.....

.....

Sur la carte des densité ci-dessus, placer et nommer les grands foyers de population.

Europe de l'Ouest - Asie du Sud - Asie de l'Est



Amérique du Nord Est - Sud-Est brésilien - Golfe de Guinée