

## Rituels en autonomie : Mardi 09 Juin

A) Pose et calcule les opérations suivantes.


$391 + 4 + 286$



$98 \times 8$



$420 - 194$



B) Lis et écris l'heure : (quand tu peux, utilises les termes demie, quart, moins vingt-cinq, moins vingt, moins le quart, moins dix, moins cinq).

Matin



Il est \_\_\_\_\_.

Matin



Il est \_\_\_\_\_.

Après-midi



Il est \_\_\_\_\_.

C) Complète avec les symboles >, < ou = pour comparer des durées.

1 heure

1 minute

Une demi-heure

30 minutes

1 heure

75 minutes

2 heures

2 heures et 30 minutes

15 minutes

une demi-heure

D) Résous les problèmes.





## Petits Problèmes









Moustik colle 5 autocollants par page dans son album. Il remplit 3 pages.

**Combien a-t-il collé d'autocollants ?**



--	--	--	--	--	--	--	--	--	--	--	--	--	--	--	--	--	--	--	--

E) Complète :

$9 \times 2$		$6 \times 3$		$9 \times 5$		$7 \times 6$	
$6 \times 9$		$4 \times 4$		$5 \times 8$		$8 \times 7$	

$58 \times 10 =$	<input style="width: 80px; height: 30px;" type="text"/>	$34 \times 1000 =$	<input style="width: 80px; height: 30px;" type="text"/>	$127 \times 100 =$	<input style="width: 80px; height: 30px;" type="text"/>
------------------	---	--------------------	---	--------------------	---

F) Relie comme il convient :

Taille d'une fourmi	●		●	cm
Hauteur d'une montagne	●		●	mm
Taille d'un crayon	●		●	km
Distance de Paris à Berlin	●		●	m

## Correction Rituels en autonomie : Mardi 09 Juin

A) Pose et calcule les opérations suivantes.

$391 + 4 + 286$

	①	①		
	3	9	1	
+			4	
+	2	8	6	
<hr/>				
	6	8	1	

$98 \times 8$


		⑥		
		9	8	
x			8	
<hr/>				
		7	8	4

$420 - 194$

		4	2	0
-		1	9	4
<hr/>				
		2	2	6

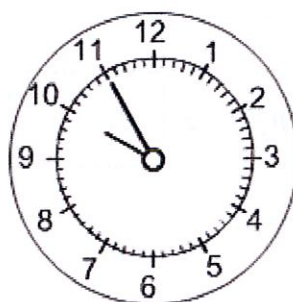
B) Lis et écris l'heure : (quand tu peux, utilises les termes demie, quart, moins vingt-cinq, moins vingt, moins le quart, moins dix, moins cinq).

Matin



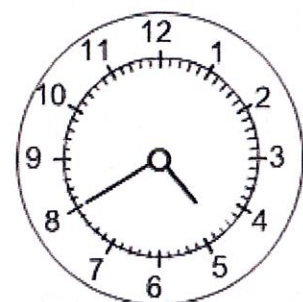
Il est 3 h 05.

Matin



Il est 10 h moins cinq.

Après-midi



Il est 1 h moins vingt.

C) Complète avec les symboles >, < ou = pour comparer des durées.

1 heure > 1 minute




Une demi-heure = 30 minutes

1 heure < 75 minutes

2 heures < 2 heures et 30 minutes


15 minutes < une demi-heure

D) Résous les problèmes.

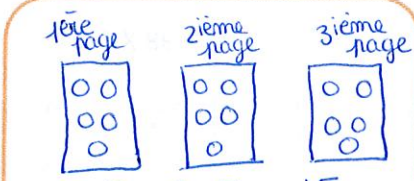




## Petits Problèmes

Moustik colle 5 autocollants par page dans son album. Il remplit 3 pages.  
Combien a-t-il collé d'autocollants ?



1<sup>ère</sup> page      2<sup>ème</sup> page      3<sup>ème</sup> page



$5+5+5 = 3 \times 5 = 15$

Il a collé 15 autocollants.

E) Complète :

$9 \times 2 = 18$        $6 \times 3 = 18$        $9 \times 5 = 45$        $7 \times 6 = 42$

$6 \times 9 = 54$        $4 \times 4 = 16$        $5 \times 8 = 40$        $8 \times 7 = 56$

$58 \times 10 = 580$        $34 \times 1000 = 34000$        $127 \times 100 = 12700$

F) Relie comme il convient :

