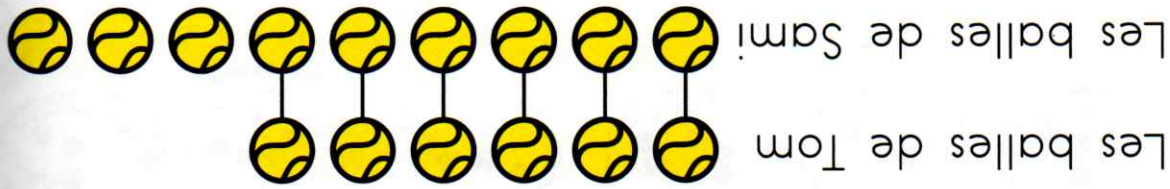


✓ Je sais résoudre des problèmes de comparaison.



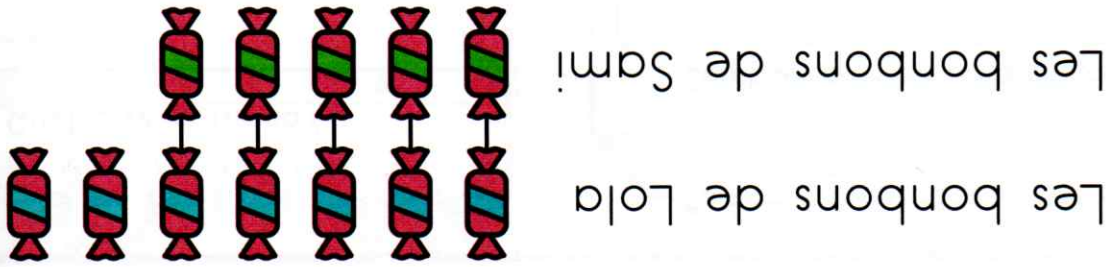
Les balls de Tom

Les balls de Sami

6 + 3 = ..... Sami a ..... balls.

1 Combien Sami a-t-il de balls?

Tom a 6 balls. Sami a 3 balls de plus que Tom.



Les bonbons de Lola

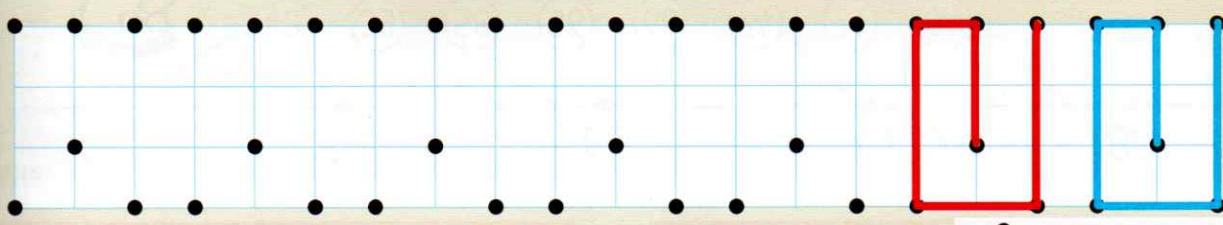
Les bonbons de Sami

7 - 2 = ..... Sami a ..... bonbons.

2 Combien Sami a-t-il de bonbons?


Lola a 7 bonbons. Sami a deux bonbons de moins que Lola.

Trace avec la règle.



3

Tom a planté 10 fleurs. Sami a planté 4 fleurs de moins que Tom.  
Combien Sami a-t-il planté de fleurs?

Tom	
Sami	

Je calcule.

Sami a planté ..... fleurs.

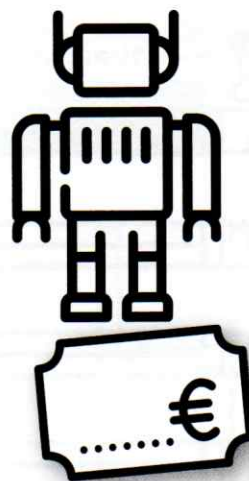
4

La voiture coute 13€. Le robot coute 6€ de plus que la voiture.  
Combien coute le robot?



Je cherche.

Je calcule.



Complète.

18

16

14

....

....

....

....

....

....

....