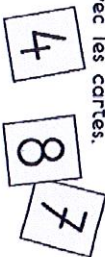


54 Résoudre des problèmes portant sur les nombres

✓ Je connais la valeur des chiffres en fonction de leur position (unités, dizaines).

1 Cherche tous les nombres de deux chiffres que l'on peut écrire avec les cartes.



- 48
- 84
- 87
- 47
- 78
- 74

2 Cherche tous les nombres de deux chiffres que l'on peut écrire avec les cartes.




- 92
- 95
- 59
- 52
- 25
- 29

Range ces nombres du plus petit au plus grand.

- 25 < 29 < 52 < 59 < 92 < 95

Reproduis avec la règle.



Correction

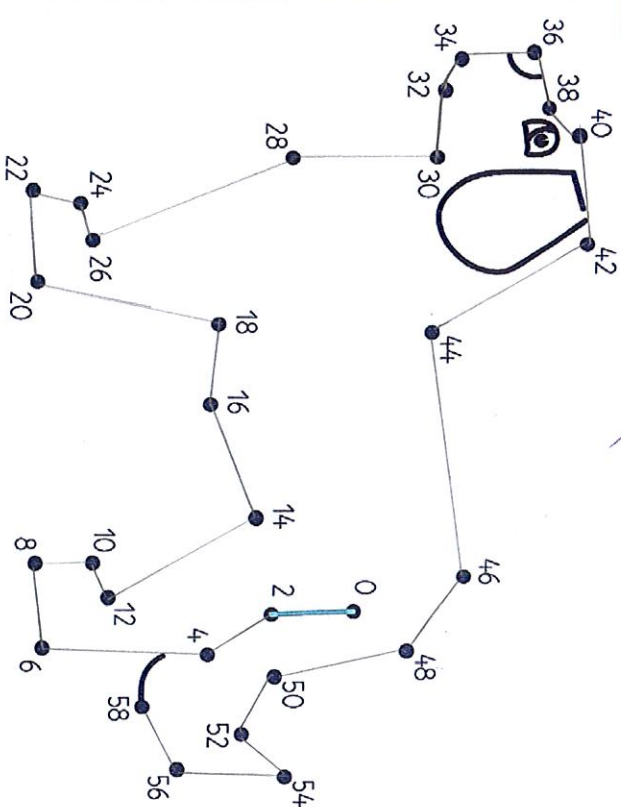
Nombres et calculs

3 Cherche le plus grand nombre que tu peux écrire avec les étiquettes.



quatre	doze	soixante	huit	dix	soixante	deux
soixante-douze			soixante-dix			
vingt	quatre	dix	trois	neuf	vingt	seize
quatre-vingt-dix			quatre-vingt-seize			
90			96			

4 Relie les nombres de 2 en 2, de 0 à 58.



Il y a un lapin gris de plus que de lapins blancs. Colorie les lapins gris.

