

Je comprends

→ Pour bien démarrer : En somme, c'est plus pratique !

Lucas veut acheter le déguisement complet de cosmonaute.

$$23 + 15 = ?$$

Combien doit-il payer en tout ?

Pour le savoir, Tigrou a une **méthode** : il pose l'**addition en colonnes**.

Cela représente
3 billets de 10 €
et 8 pièces de 1 €.



d	u
2	3
+	+
1	5
<hr/>	
3	8

Je commence par les **unités** :
3 unités plus 5 unités font 8 unités.




En tout, Lucas doit payer **38 €**.

J'applique

1 Complète et effectue.




$$27 + 12 = 39$$



d	u
2	7
+	+
1	2
<hr/>	
3	9

2 Dessine, complète et effectue.

$$15 + 34 = 49$$



d	u
1	5
+	+
3	4
<hr/>	
4	9

3 Effectue.

$$\begin{array}{r} 35 \\ + 21 \\ \hline 56 \end{array}$$

$$\begin{array}{r} 41 \\ + 14 \\ \hline 55 \end{array}$$

$$\begin{array}{r} 80 \\ + 17 \\ \hline 97 \end{array}$$

$$\begin{array}{r} 66 \\ + 22 \\ \hline 88 \end{array}$$