







L'addition posée

J'achète :  et   

	d	u
3		2
1		4
4		6

Puis je compte les dizaines :  $3 + 1$

Je compte les unités :  $2 + 4$





Pose et calcule :  $46 + 52$

	d	u
4		6
5		2
9		8

$32 + 43 + 4$

	d	u
3		2
4		3
7		9



L'addition posée

J'achète :  et   

	d	u
3		2
1		4
.		.

Puis je compte les dizaines :  $. + .$

Je compte les unités :  $. + .$

Pose et calcule :  $46 + 52$

	d	u
.		.
.		.
.		.

$32 + 43 + 4$

	d	u
.		.
.		.
.		.