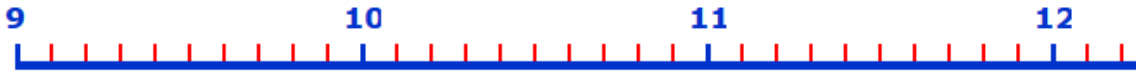


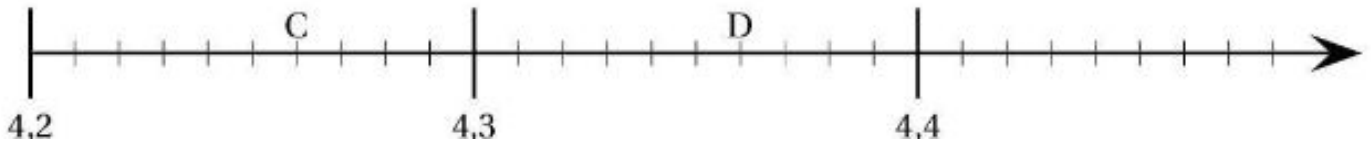
ENCADRER DES NOMBRES DECIMAUX UTILISER UNE DROITE GRADUEE

1- Place ces nombres décimaux sur la droite graduée. Ecris la lettre au bon endroit.

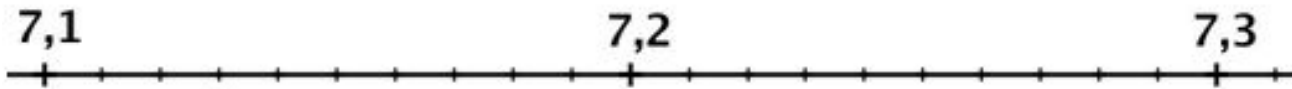
Points	A	B	C	D
Position sur la droite numérique	9,5	10,2	10,8	11,1



2- Indique la valeur des lettres C et D. Place : 4,29 4,32 4,38 4,45

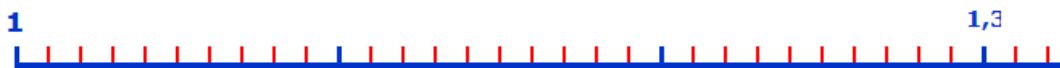


3- Place : 7,28 7,14 7,19 7,23

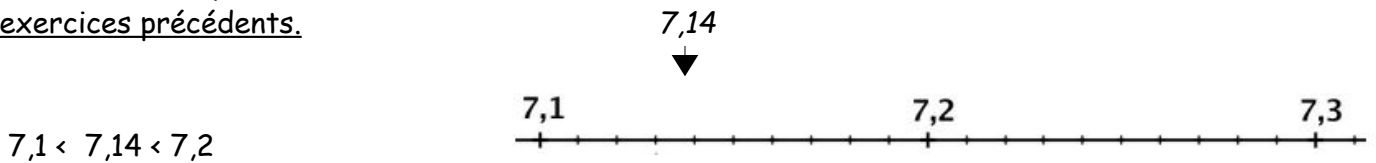


4- Place ces nombres décimaux sur la droite graduée. Ecris la lettre au bon endroit. Tu peux déjà compléter les 3 graduations bleues (les 10ème)

Points	A	B	C	D
Position sur la droite numérique	1,06	1,12	1,20	1,25



5- Encadre chaque nombre décimal entre 2 décimaux au 10ème . Sers-toi des frises des exercices précédents.



..... < 7,26 <

..... < 4,38 <

..... < 1,25 <

..... < 4,21 <

..... < 7,16 <

..... < 1,17 <