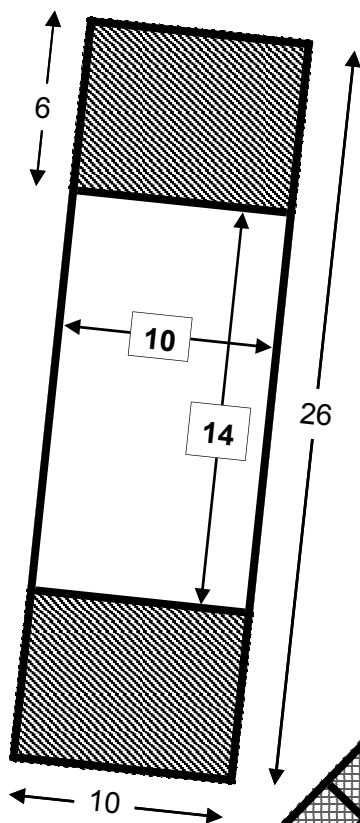
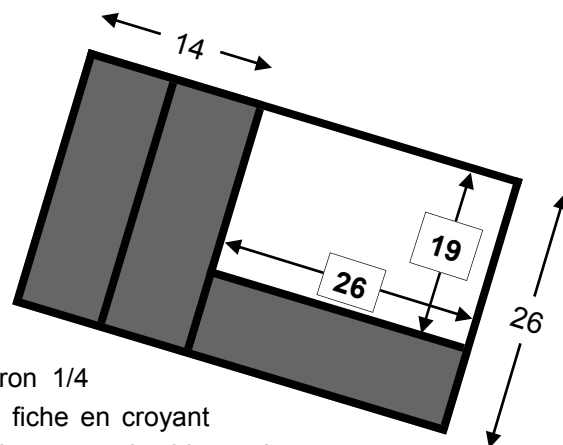
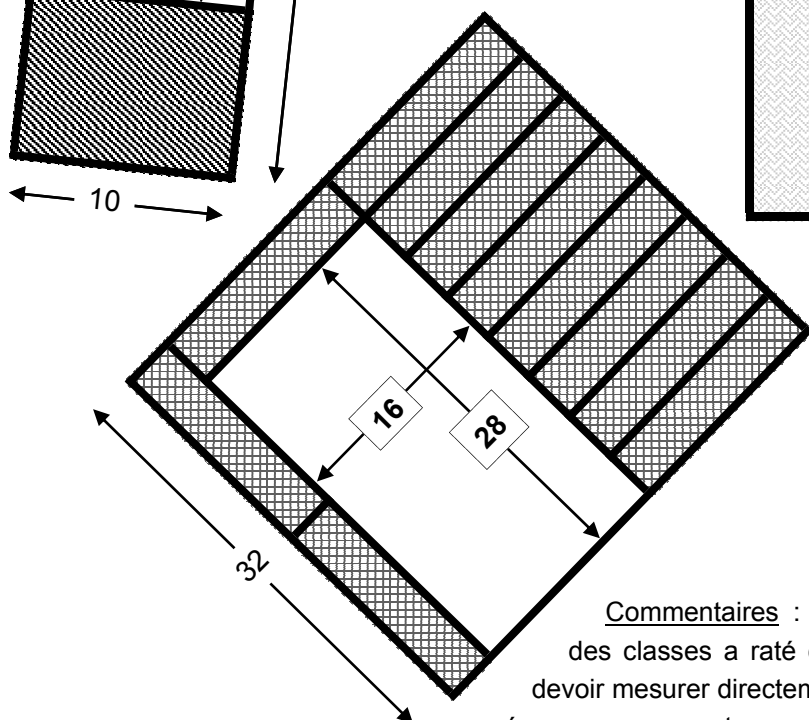
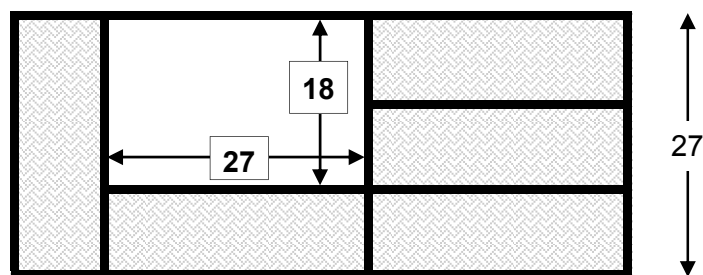
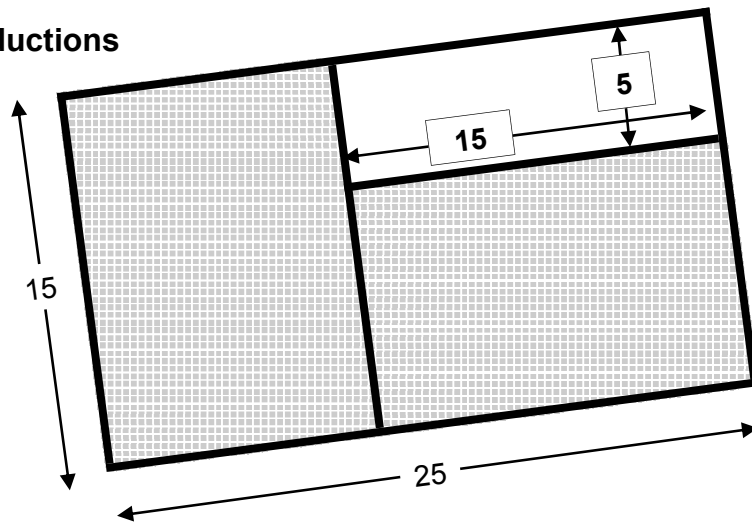


3 - Spatiales déductions



Réponses :
sur chacune
des figures.

Barème : Chaque
dimension trouvée
rapporte 2 points.



Commentaires : environ 1/4

des classes a raté cette fiche en croyant
devoir mesurer directement les rectangles blancs. Leurs
réponses, en cm et mm, n'ont aucun rapport avec les dimensions fournies.

On pourrait considérer qu'ils indiquent bien "les dimensions du rectangle blanc" mais ils ne prêtent aucune attention au reste des informations !

Par ailleurs, une erreur revient souvent : 14 au lieu de 19 dans la dernière figure. Vraisemblablement, ne trouvant pas comment obtenir cette largeur, certains ont reporté la cote 14, qui lui ressemble fort sur la figure. En raisonnant bien à partir de l'identité des rectangles gris, il fallait calculer : $14 : 2 = 7$ et $26 - 7 = 19$.

Répartition des notes
obtenues pour la fiche 3

