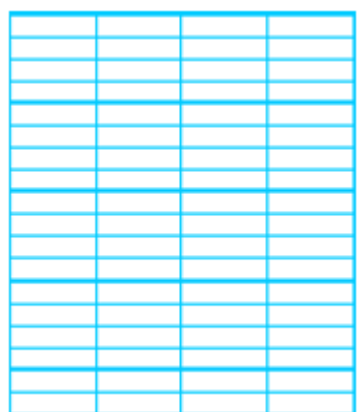


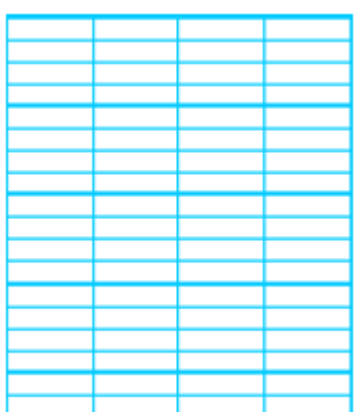
# Rituels en autonomie : Jeudi 18 Juin

A) Pose et calcule les opérations suivantes.


$509 - 63$



$53 \times 9$



$543 + 224 + 167$



B) Lis et écris l'heure : (quand tu peux, utilises les termes demie, quart, moins vingt-cinq, moins vingt, moins le quart, moins dix, moins cinq).

Après-midi



Il est \_\_\_\_\_.

Matin



Il est \_\_\_\_\_.

Après-midi



Il est \_\_\_\_\_.

C) Problèmes heure et durée :

Tous les matins, Camille fait sa toilette de 7 h 30 à 7 h 45.  
Combien de temps dure sa toilette ?

.....  
.....  
.....



Voici le temps de préparation pour faire un cake aux pêches et aux amandes :

- éplucher les pêches : 5 min
- cuire les pêches et les amandes : 15 min
- préparer la pâte : 10 min
- cuire au four : 30 min



**Tom doit partir à l'école dans 1 heure. Le gâteau sera-t-il prêt à temps ?**

.....  
.....

D) Résous les problèmes.

## Petits Problèmes

Lisa a 50 billes. A la récréation, elle en gagne 8 à la 1<sup>ère</sup> partie et elle en perd 11 à la 2<sup>ème</sup>.

**Combien de billes a-t-elle en tout à la fin de la récréation ?** 🎮

E) Complète :

$3 \times 8$		$7 \times 9$		$8 \times 4$		$5 \times 4$	
$8 \times 6$		$9 \times 6$		$7 \times 6$		$8 \times 9$	

$318 \times 100 = \boxed{\phantom{0000}}$     
  $48 \times 10 = \boxed{\phantom{000}}$     
  $39 \times 1000 = \boxed{\phantom{00000}}$

F) Complète :

26 hm = \_\_\_\_\_ dm.  
 5 km = \_\_\_\_\_ dam.  
 3000 mm = \_\_\_\_\_ m.  
 12 dam 4 m = \_\_\_\_\_ hm et \_\_\_\_\_ m.  
 9 m = \_\_\_\_\_ cm.

km	hm	dam	m	dm	cm	mm

G) Observe et complète :




L'ours est plus lourd que .....

Le ballon est plus lourd que .....

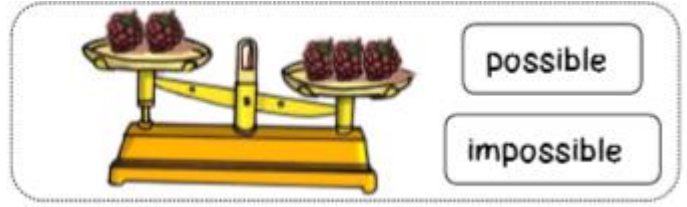
**Range** ces 3 objets du plus lourd au plus léger.

1. .... 2. .... 3. ....


H) Colorie l'objet le plus léger quand c'est possible.



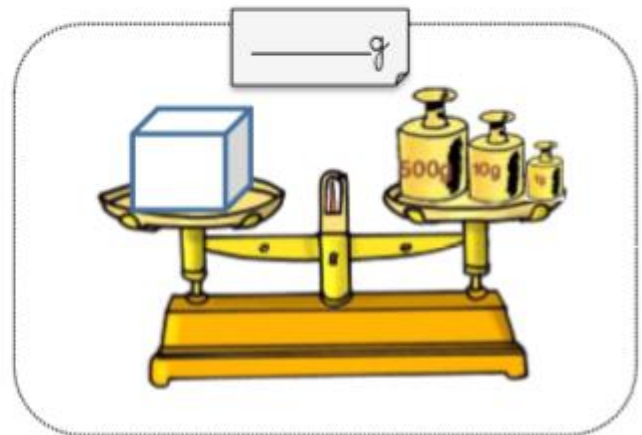



I) Entoure la bonne réponse.



J) Complète les plateaux en dessinant des oranges pour que la balance soit juste.



K) Calcule la masse de chaque objet :



# Correction Rituels en autonomie : Jeudi 18 Juin

A) Pose et calcule les opérations suivantes.

$509 - 63$

$$\begin{array}{r} 509 \\ - 63 \\ \hline 446 \end{array}$$

$53 \times 9$

$$\begin{array}{r} 53 \\ \times 9 \\ \hline 477 \end{array}$$

$543 + 224 + 167$

$$\begin{array}{r} 543 \\ + 224 \\ + 167 \\ \hline 934 \end{array}$$

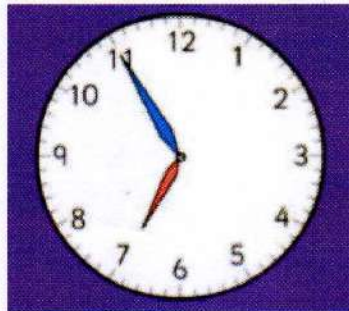
B) Lis et écris l'heure : (quand tu peux, utilises les termes demie, quart, moins vingt-cinq, moins vingt, moins le quart, moins dix, moins cinq).

Après-midi



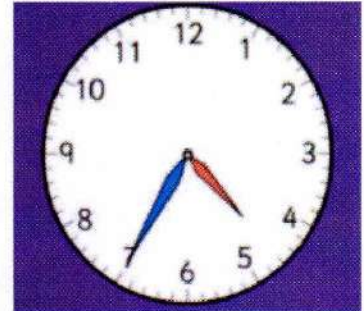
Il est 7 h 28.

Matin



Il est 7 h moins cinq.

Après-midi



Il est 5 h moins vingt-cinq.

C) Problèmes heure et durée :

Tous les matins, Camille fait sa toilette de 7 h 30 à 7 h 45.  
Combien de temps dure sa toilette ?

Sa toilette dure 15 minutes.  
7h45 - 7h30 = 15 minutes



Voici le temps de préparation pour faire un cake aux pêches et aux amandes :

- éplucher les pêches : 5 min
- cuire les pêches et les amandes : 15 min
- préparer la pâte : 10 min
- cuire au four : 30 min



$$\begin{array}{r} 5 \\ + 15 \\ + 10 \\ + 30 \\ \hline 60 \end{array}$$

Tom doit partir à l'école dans 1 heure. Le gâteau sera-t-il prêt à temps ?

5 min + 15 min + 10 min + 30 min = 60 minutes. Vu que 60 minutes est égal à 1 heure alors le gâteau sera prêt à temps.

D) Résous les problèmes.

## Petits Problèmes

Lisa a 50 billes. A la récréation, elle en gagne 8 à la 1<sup>ère</sup> partie et elle en perd 11 à la 2<sup>ème</sup>.

**Combien de billes a-t-elle en tout à la fin de la récréation ? 🧸**

$50 + 8 = 58$  à la 1<sup>ère</sup> partie

$58 - 11 = 47$  à la 2<sup>ème</sup> partie

Elle a 47 billes en tout à la fin de la récréation.

E) Complète :

$3 \times 8$	$7 \times 9$	$8 \times 4$	$5 \times 4$
24	63	32	20
$8 \times 6$	$9 \times 6$	$7 \times 6$	$8 \times 9$
48	54	42	72

$318 \times 100 = 31800$    
  $48 \times 10 = 480$    
  $39 \times 1000 = 39000$

F) Complète :

26 hm = 26 000 dm.

5 km = 500 dam.


3000 mm = 3 m.

12 dam 4 m = 1 hm et 24 m.

9 m = 900 cm.

km	hm	dam	m	dm	cm	mm
2	6	0	0	0		
5	0	0				
			3	0	0	0
	1	2	4			
			9	0	0	

G) Observe et complète :



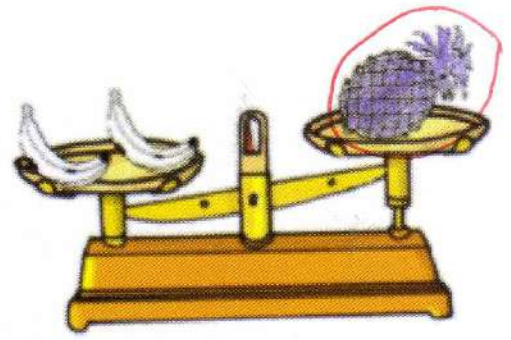
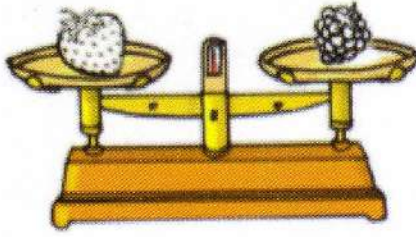

L'ours est plus lourd que le ballon.

Le ballon est plus lourd que la voiture.


Range ces 3 objets du plus lourd au plus léger.

1. l'ours                      2. le ballon                      3. la voiture


H) Colorie l'objet le plus léger quand c'est possible.



I) Entoure la bonne réponse.



J) Complète les plateaux en dessinant des oranges pour que la balance soit juste.



K) Calcule la masse de chaque objet :

