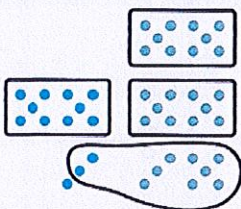



55 Calculer en ligne la somme de deux nombres

Nombre et calculs

✓ Je sais calculer en ligne la somme de deux nombres dont le résultat est plus petit que 100.

Samir a 28 billes vertes et 13 billes bleues. Il veut savoir combien il a de billes en tout.



$$\begin{aligned} 28 + 13 &= 20 + 8 + 10 + 3 \\ 28 + 13 &= 20 + 10 + 8 + 3 \\ 28 + 13 &= 20 + 10 + 11 \\ 28 + 13 &= 20 + 10 + 10 + 1 \\ 28 + 13 &= 40 + 1 \\ 28 + 13 &= 41 \end{aligned}$$

Samir a 41 billes en tout.

1 Calcule.

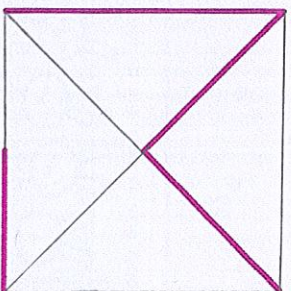

$$32 + 14$$

Je cherche.

$$\begin{aligned} 32 + 14 &= 30 + 2 + 10 + 4 \\ 32 + 14 &= 30 + 10 + 2 + 4 \\ 32 + 14 &= 30 + 10 + 6 \\ 32 + 14 &= 40 + 6 \\ 32 + 14 &= 46 \end{aligned}$$

$$32 + 14 = 46$$

Reproduis avec la règle.



2 Calcule.

$$19 + 15$$

Je cherche.

$$\begin{aligned} 19 + 15 &= 10 + 9 + 10 + 5 \\ 19 + 15 &= 10 + 10 + 9 + 5 \\ 19 + 15 &= 10 + 10 + 14 \\ 19 + 15 &= 10 + 10 + 10 + 4 \\ 19 + 15 &= 30 + 4 \end{aligned}$$

$$19 + 15 = 34$$

3 Dans son poulailler, le fermier a 36 canards et 23 poules. Combien y a-t-il d'animaux au total dans le poulailler?



36 canards



23 poules

Je cherche.

$$\begin{aligned} 36 + 23 &= 30 + 6 + 20 + 3 \\ 36 + 23 &= 30 + 20 + 6 + 3 \\ 36 + 23 &= 30 + 20 + 9 \\ 36 + 23 &= 50 + 9 \\ 36 + 23 &= 59 \end{aligned}$$

Je réponds.

Il y a 59 animaux au total dans le poulailler.

Colorie les 5 nombres qui se suivent.

- 46
52
34
40
49
53
50
51
47
45