











Révisions 3 pour le 22 et 23 juin


6) Organisation et gestion des données :





Dessine les objets dans le tableau

-  (A, 3)
-  (D, 2)
-  (C, 6)
-  (E, 3)
-  (B, 7)

	1	2	3	4	5	6	7
A							
B							
C							
D							
E							


Indique le code des objets.

-  (B, 4)
-  (D, 6)
-  (D, 2)
-  (A, 6)

	1	2	3	4	5	6	7
A							
B							
C							
D							
E							

7) Résoudre des problèmes :


Anaïs et Martin sortent de l'Euromag où ils ont fait quelques achats pour le goûter d'anniversaire de leur petite soeur.



Combien ont-ils payé ?

$$1 + 3 + 1 + 5 + 2 = 12 \text{ €}$$

Ils ont payé 12 €.



Entoure les porte-monnaie qui contiennent la somme exacte du prix du goûter.