

*Rappel de la méthode*

**Une chronologie est un graphique qui permet de localiser des événements dans le temps.**

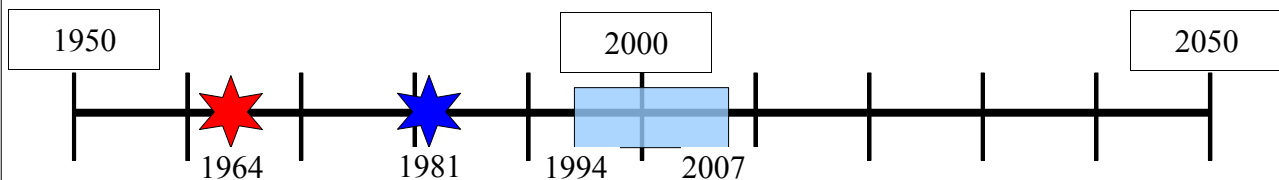
Elle permet de mettre en évidence certains éléments, qui ne seront pas tous les mêmes selon l'auteur du graphique.

Il est très important de repérer les éléments essentiels qui permettent sa lecture.

- Le titre (qui précise le sujet de la chronologie)
- La légende (qui permet de comprendre ce que raconte la chronologie)
- L'échelle de temps choisie

Exemple :

*Document : Le CV de la prof...*

**LEGENDE**

- ★ Date de naissance
- ★ Date d'obtention du baccalauréat
- Enseigne au collège J. Texcier

**Les éléments à repérer :****Le titre**

Il donne le sujet principal de la chronologie

**Les bornes de la chronologie :**

1950 et 2050

**L'échelle de temps :**

Une graduation pour 10 ans

**La légende :**

- Une étoile représente un événement précis.
- Un rectangle représente une période.

**Les informations obtenues**

Si vous savez lire cette chronologie vous pouvez savoir mon âge.....

$2007 - 1964 = \dots\dots !$

Vous pouvez aussi savoir à quel âge j'ai eu le bac.....

$1981 - 1964 = \dots\dots$

Et depuis combien de temps j'enseigne au collège :

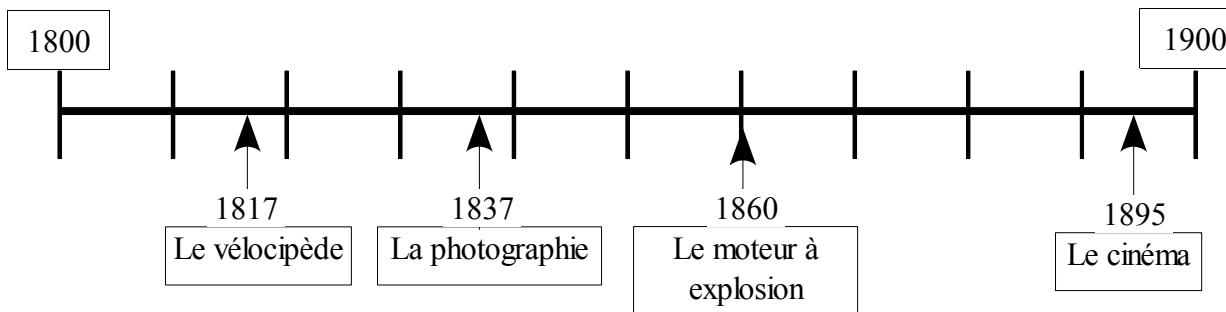
$2007 - 1994 =$

Ca se complique avec les chiffres négatif quand on travaille dans l'histoire très ancienne. Dans les exemples qui vont suivre, vous allez pouvoir vous exercer sur des choses simple... puis sur des choses plus compliquées.....

*Première série : Lire une chronologie.*

*Consigne : Pour chaque frise répondez aux questions, qui sont classées des plus simples au plus complexes*

**Document 1 : Les inventions du XIXème siècle**



**Questions :**

**Niveau 1**

- Quelles sont les dates qui bordent cette chronologie ?
- Elle représente combien de temps ?
- A quelle durée correspond une graduation ?
- Quelle est l'invention la plus récente ?

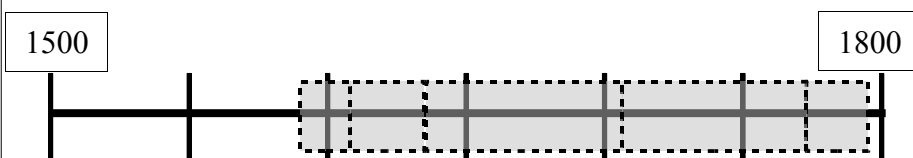
**Niveau 2**

- A quelle date a été inventé la photographie ?
- A quelle date a-t-on inventé le cinéma ?
- Combien de temps s'est écoulé entre l'invention du vélocipède et celui de la photographie ?

**Niveau 3**

- Combien de temps s'est écoulé entre l'invention de la photographie et l'invention du cinéma ?

**Document 2 : Les règnes des derniers rois de France jusqu'à la Révolution Française**



- Henri IV (1589 - 1610)
- Louis XV (1715 - 1774)
- Louis XIII (1610 - 1643)
- Louis XIV (1643 - 1715)
- Louis XVI (1774 - 1792)

**Questions :**

**Niveau 1**

- Quelles sont les dates qui bordent cette chronologie ?
- Elle représente combien de temps ?
- A quelle durée correspond une graduation ?

**Niveau 2**

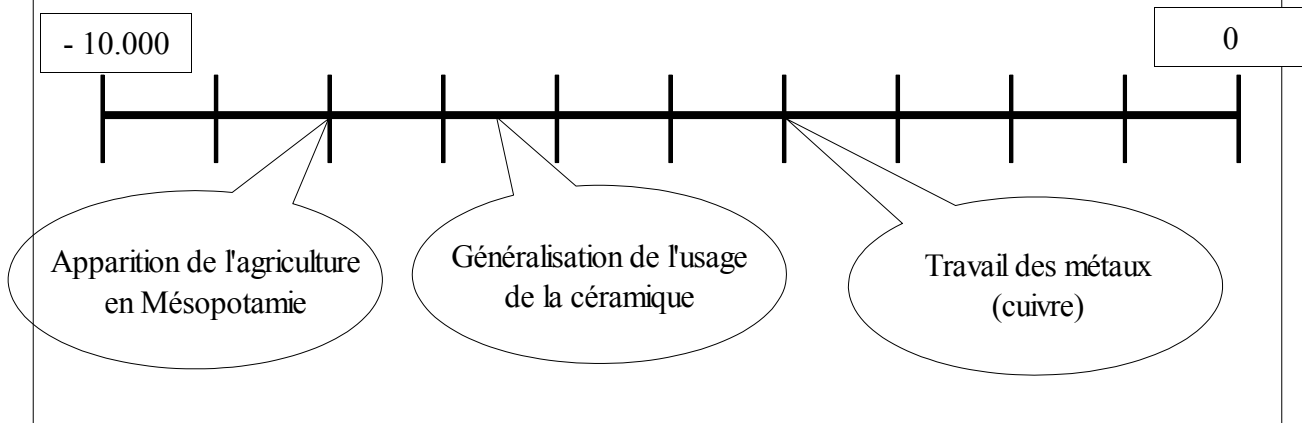
- Colorie la légende et la frise en donnant à chaque roi la couleur que tu souhaites (attention, ils sont dans le désordre !)
- Combien d'années a régné Louis XIII ?
- Quel est le roi le plus ancien mentionné par cette chronologie ?

**Niveau 3**

- Combien de temps a régné Henri IV ?
- Combien de temps a régné Louis XIV ?

*Première série : Lire une chronologie.*

**Document 3 : Les premières inventions humaines de l'histoire**



**Questions :**

**Niveau 1**

- Quelles sont les dates qui bordent cette chronologie ?
- A quelle durée correspond une graduation ?


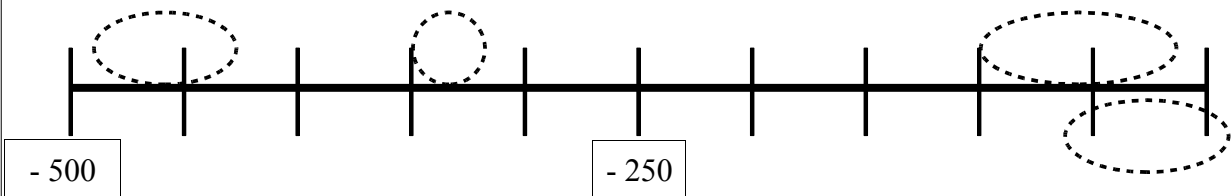
**Niveau 2**

- A quelle date l'agriculture est-elle apparue ?
- A quelle date a-t-on commencé à travailler le cuivre ?

**Niveau 3**

- A quelle date l'usage de la céramique s'est-il généralisé ?

**Document 4 : Quelques personnages qui ont fait l'histoire.**



<i>Dates de naissance et de décès</i>	<i>Noms</i>	<i>Lettre / couleur correspondante</i>
-63 / 44	Auguste	
- 495 / -429	Périclès	
-356 / -323	Alexandre le Grand	
-1304 / -1213	Ramses II	
-100 / -14	Jules César	

**Questions :**

**Niveau 1**

- Quelles sont les dates qui bordent cette chronologie ?
- A quelle durée correspond une graduation ?

**Niveau 2**

- Quel personnage ne peut pas figurer sur cette frise ?
- A quel personnage correspondent chacun des cercles ?
- Combien d'années ont vécu Périclès et Jules César ?

**Niveau 3**

- Classe ces personnages du plus ancien au plus proche de nous.
- A quelle âge est mort Auguste ?