

### DEFI MATHS 3

#### Exercice 1 : numération

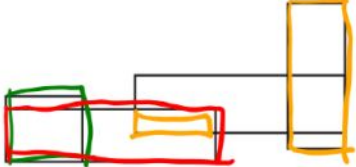

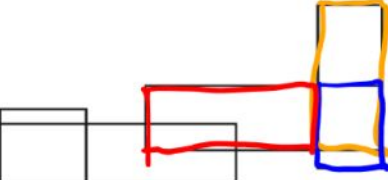
Nombre de billets de 10€ x 10 + Nombre de billets de 20€ x 20 = 200 €

Nombre de billets de 10 + nombre de billets de 20 = 13

En faisant plusieurs essais, on trouve :

**6 billets de 10€ et 7 billets de 20€ => 60 + 140 = 200€**

#### Exercice 2 : géométrie

 <p>4 rectangles</p>	 <p>7 rectangles</p>
 <p>3 rectangles</p>	<p>Au total :</p> <p><b>14 rectangles</b></p>

#### Exercice 3 : mesures



=

17€50



= 89 €



= 51€50

Car 3 ballons coutent 52€50. Je partage donc 52€50 en trois. Puis je cherche le prix des deux robots , etc.