



# MATHS AU CE2

Période 2



# SEMAINE 7

Séquence 19 Séance 1



**Séance 1**  
**Module 19**

Recherche




Un cuisinier a acheté 20 boîtes de 6 œufs.

**Combien d'œufs a-t-il achetés ?**

$$20 \times 6$$



**Séance 1**  
**Module 19**



$$7 \times 20 = ?$$

$$40 \times 6 = ?$$


$$50 \times 8 = ?$$

+ Fichier élève  
Pages 58-59  
Ex.1 et 2



# SEMAINE 7

Séquence 19 Séance 2



**Séance 2**  
**Module 19**

Recherche




Pour la fête de l'école, la directrice a acheté  
16 paquets de 20 ballons de baudruche.

**Combien de ballons a-t-elle achetés ?**

$$16 \times 20$$



**Séance 2**  
**Module 19**



$$20 \times 12 = ?$$

$$30 \times 14 = ?$$

$$12 \times 40 = ?$$


$$30 \times 50 = ?$$

+ Fichier élève  
Pages 58-59  
Ex.3 et 4



# SEMAINE 7

Séquence 19 Séance 3





**Séance 3**  
**Module 19**

Recherche




Dans le stade, il y a 5 tribunes pour accueillir les spectateurs. Dans chaque tribunes, il y a 300 places.

**Combien y-a-t-il de places dans le stade ?**

$$15 \times 300$$



**Séance 3**  
**Module 19**



$$300 \times 4 = ?$$

$$200 \times 9 = ?$$

$$5 \times 400 = ?$$

+ Fichier élève  
Page 59  
Ex. 5 à 7

