


ATELIER PROBLÈMES

Maths au CE2 – Accès Editions


Période 2



SEMAINE 1

Maths au CE2 – Accès Editions

Période 2

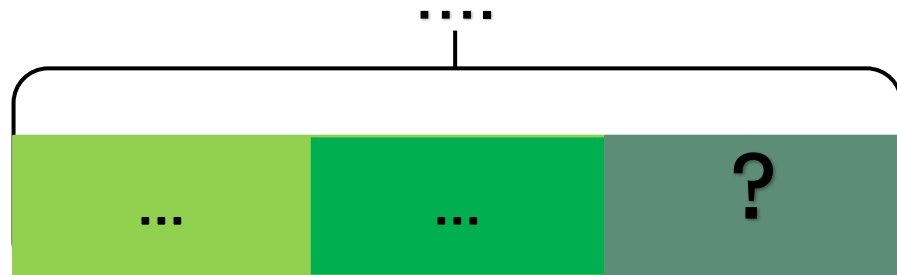
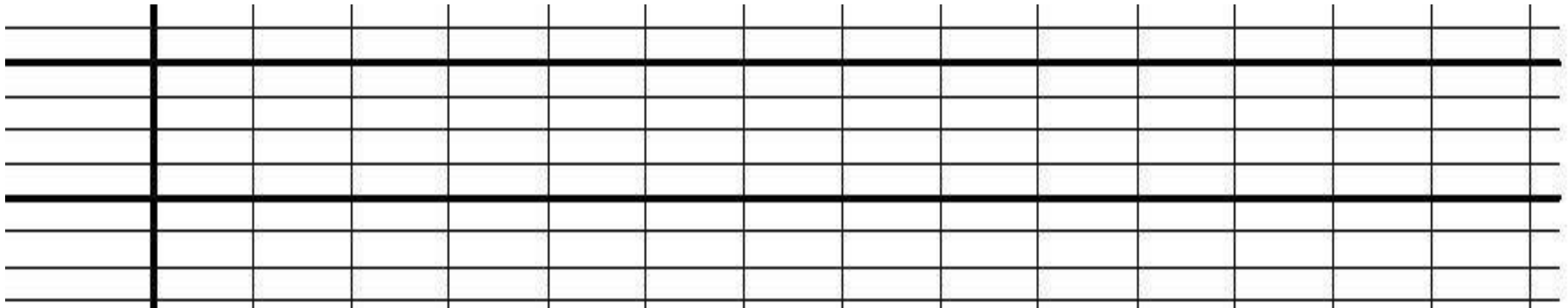


Problème 1

Semaine 1

Une pâtissière a préparé 120 éclairs, dont 33 sont au café et 45 à la vanille. Les autres sont au chocolat.


Combien d'éclairs au chocolat a-t-elle préparés?




Problème 2

Tom a emprunté un livre de 200 pages à la bibliothèque. Il a lu 84 pages lundi, 28 pages mardi et 57 pages mercredi.

Combien de pages lui reste-t-il à lire ?



....




+ Mini-fichier
problèmes
1 à 4



SEMAINE 2

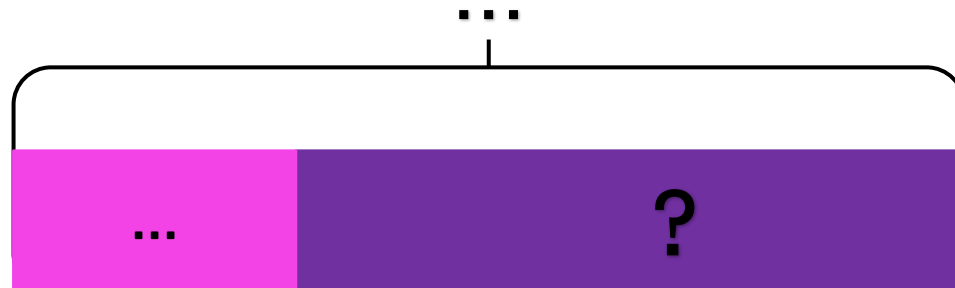
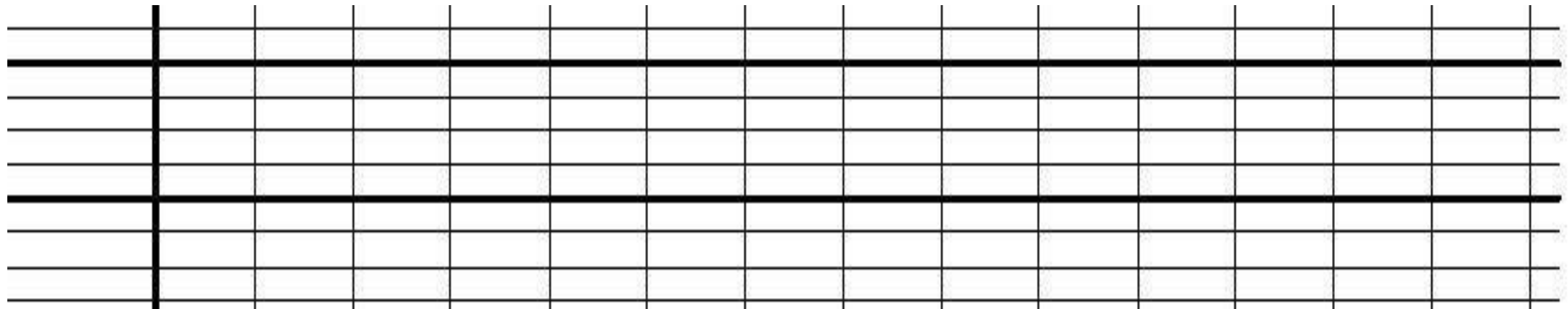
Maths au CE2 – Accès Editions

Période 2



Problème 1

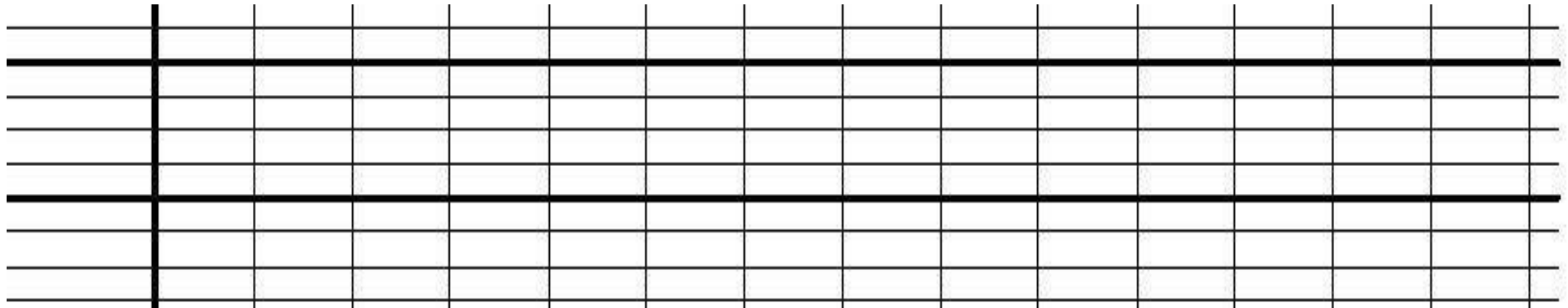
Léo avait 54 billes. A la récréation, il perd 23 billes.
Combien de billes a-t-il après la récréation ?



Léo a perdu 14 billes pendant la récréation.

Maintenant, il a 86 billes.

Combien de billes avait-il avant la récréation ?

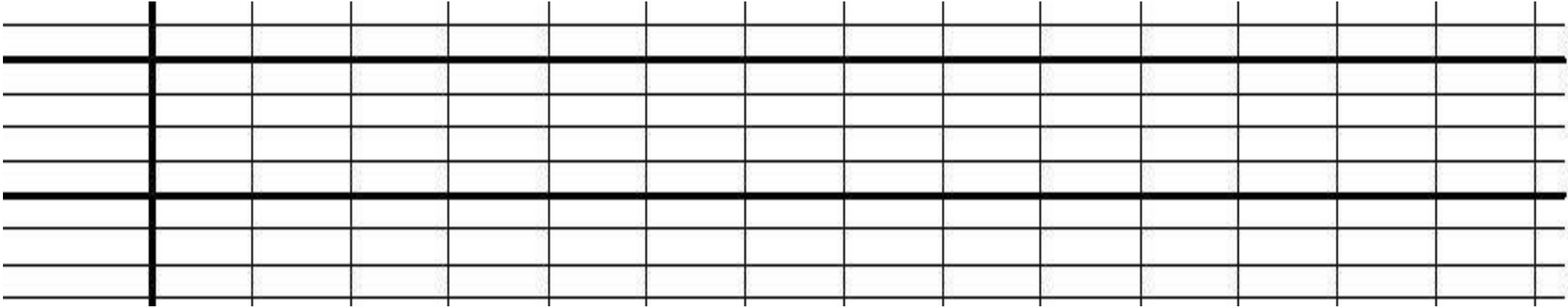


?




Problème 3

Léo avait 78 billes. Il a perdu des billes pendant la récréation. Maintenant, il a 36 billes.
Combien de billes a-t-il perdu pendant la récréation?



....




+ Mini-fichier
problème
5



SEMAINE 3

Maths au CE2 – Accès Editions

Période 2



Ayah avait 57 € dans sa tirelire. Elle reçoit un billet de 20 € et deux billets de 5 € .

Quelle somme a-t-elle maintenant dans sa tirelire ?


+ Mini-fichier
problème
6 à 13



SEMAINE 4

Maths au CE2 – Accès Editions

Période 2



Problème 1

Complète le tableau de répartition des classes de l'école Jules Ferry puis réponds aux questions.

	CP	CE1	CE2	CM1	CM2	TOTAL
Nombre de filles	8	14	13	16
Nombre de garçons	13	9	8	15
Total	25	29

Combien y a-t-il d'élèves inscrits à l'école Jules Ferry ?

.....

Dans quelle classe y a-t-il le plus d'élèves ?

.....

La directrice doit commander 3 stylos bleus pour chaque élève de l'école. Combien doit-elle commander de stylos ?

.....

.....


+ Mini-fichier
Problème 14



SEMAINE 5

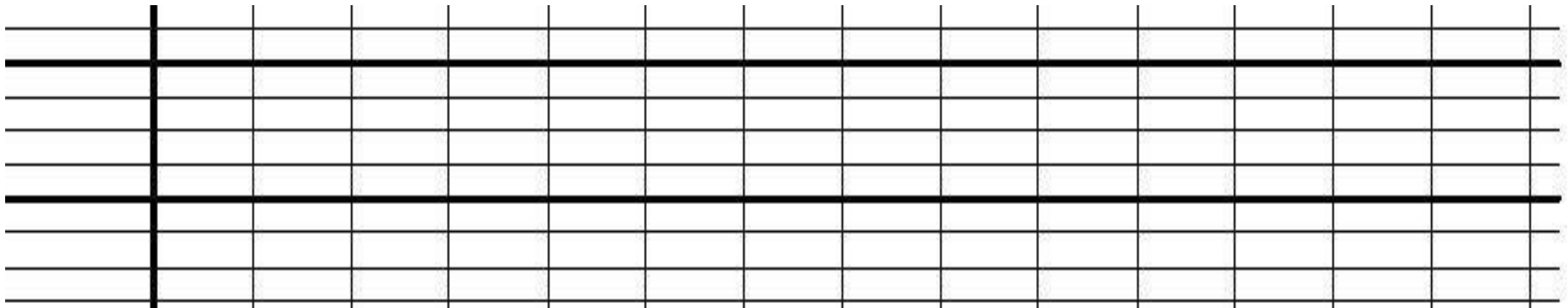
Maths au CE2 – Accès Editions

Période 2



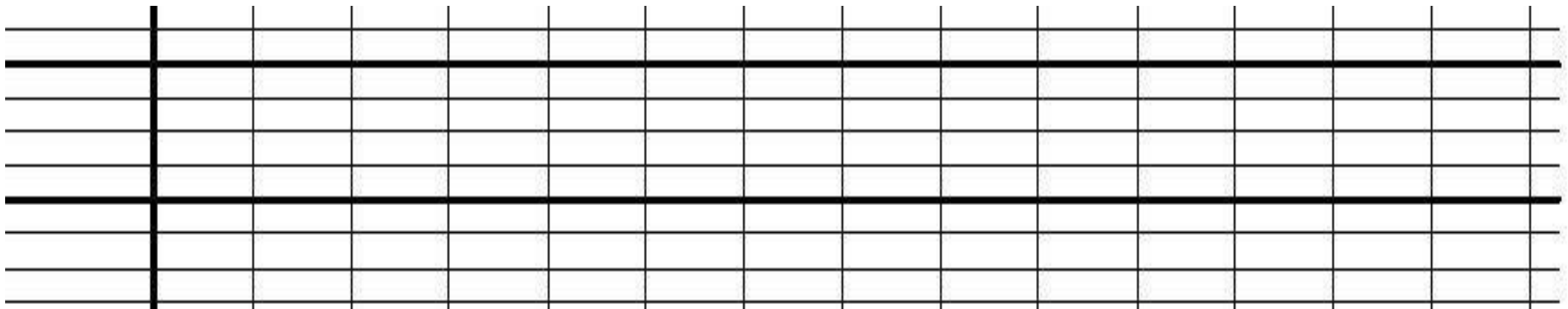
Problème 1

Tom achète 7 balles à 2 € et un jeu de cartes à 4 €.
Combien doit-il payer ?



Dans ma poche, j'ai 4 pièces de 2 € et 4 billets de 5 €.
Aurai-je assez d'argent pour acheter un jeu à 30 €?
Explique pourquoi.


+ Mini-fichier
problèmes
15 à 20



SEMAINE 6

Maths au CE2 – Accès Editions

Période 2

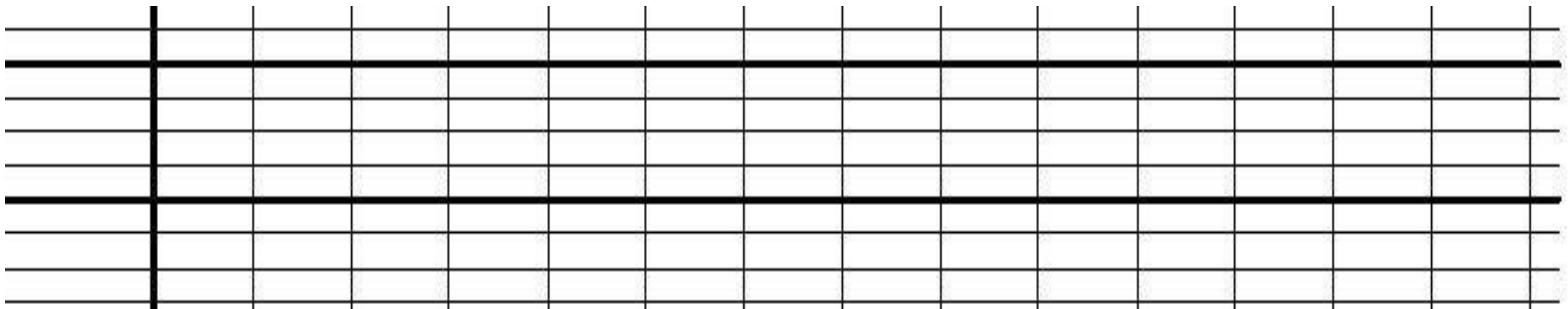


Problème 1

Semaine 6

Dans un restaurant, il y a 9 tables de 5 places et une table de 8 places.

Combien ce restaurant peut-il recevoir de clients?

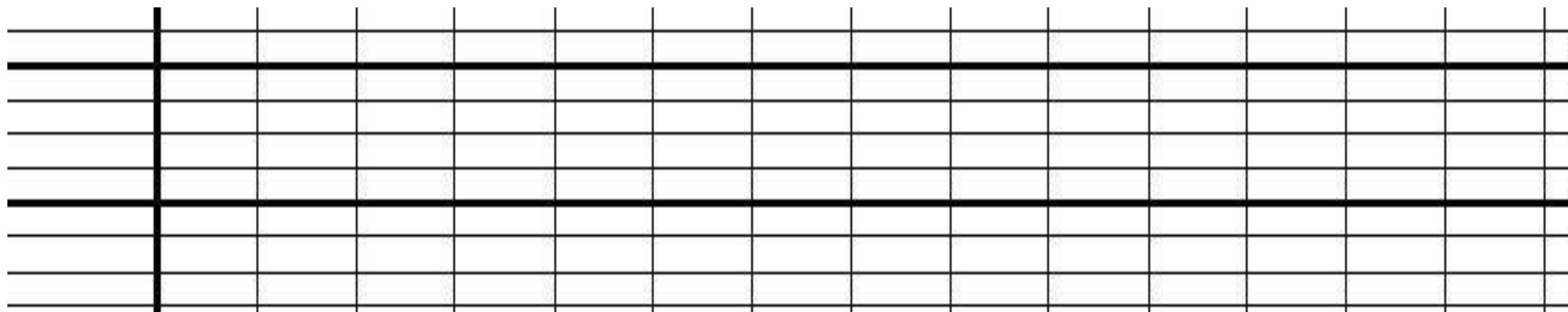


Problème 2

Un jardinier a planté 3 rangées de 16 salades. Les limaces ont mangé 5 salades.

Combien reste-t-il de salades ?


+ Mini-fichier
problèmes
21 à 25



SEMAINE 7

Maths au CE2 – Accès Editions

Période 2



La directrice commande du matériel à la librairie.
Aide-la à compléter le bon de commande.

	Quantité	Prix unitaire en €	Prix total en €
Compas	9	3
Règle	8	2
Trousse	4	20
Agrafeuse	2	12
Total à payer		



Monsieur Lambert est électricien. Il commande des outils pour ses employés.
Aide-la à compléter le bon de commande.

+ Mini-fichier problèmes 26 à 30

	Quantité	Prix unitaire en €	Prix total en €
Marteau	2	14
Tournevis	7	28
Perceuse	3	200
Pince	3	12
		Frais de port	13 €
		Total à payer

