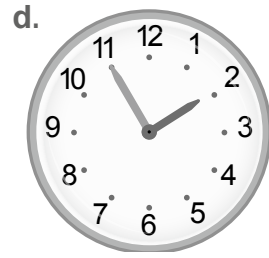
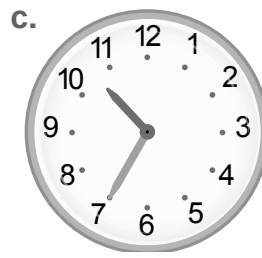
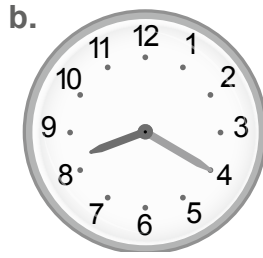
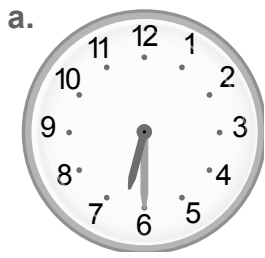
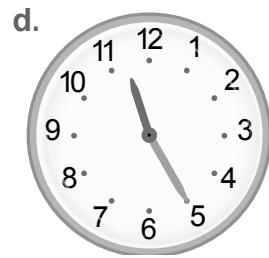
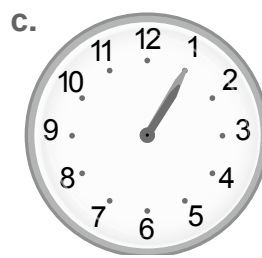
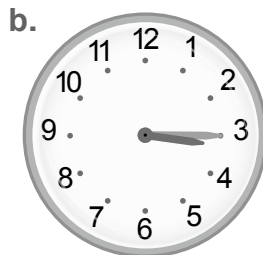
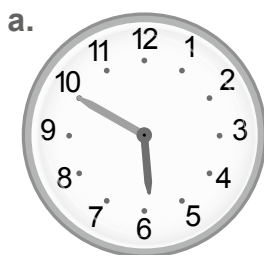


Nom : _____ Date : _____

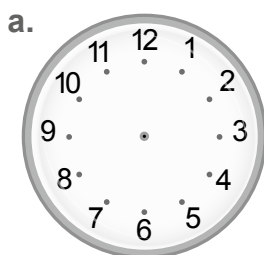
1 Pour chaque horloge, indique l'heure.



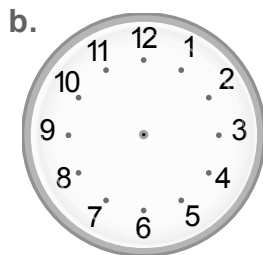
2 Pour chaque horloge, indique l'heure du matin et l'heure de l'après-midi.



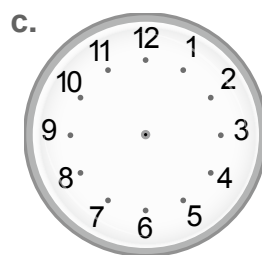
3 Place les aiguilles (une petite aiguille rouge pour les heures, une grande aiguille bleue pour les minutes) en fonction des heures indiquées.



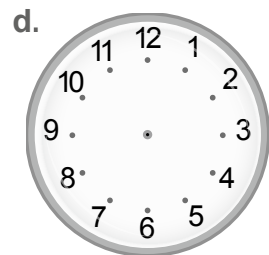
8 h 45



16 h 20



3 h 30



11 h 40



PROBLÈME

4 Bettina regarde à la télévision les diffusions des matchs de tennis durant le tournoi de Roland-Garros. Indique les horaires des diffusions.

Le matin, la diffusion commence à et se termine à

L'après-midi, la diffusion commence à et se termine à

Matin

Après-midi

