

Révisions 3 pour le 22 et 23 juin

1) Indique le chiffre des dizaines dans

96 ... 9 ... 63 ... 6 ... 79 ... 7 ... 5 ... 0 ...

Indique le chiffre des unités dans

28 ... 8 ... 80 ... 0 ... 34 ... 4 ... 2 ... 2 ...

Écris les nombres en lettres (Tu peux t'aider de l'aide)

62 soixante-deux 25 vingt-cinq
80 quatre-vingts 12 douze









2) Compare les nombres en utilisant < et >

58 < 63

75 > 53

94 > 92

3) Ecris les heures indiquées sur ces horloges.

 Il est <u>1</u> h <u>00</u>	 Il est <u>10</u> h <u>00</u>	 Il est <u>7</u> h <u>00</u>	 Il est <u>9</u> h <u>00</u>
 Il est <u>5</u> h <u>30</u> min	 Il est <u>2</u> h <u>30</u> min	 Il est <u>8</u> h <u>30</u> min	 Il est <u>4</u> h <u>30</u> min

*ou heures
pile*

*ou demis
heures.*