



MATHS AU CE2

Période 2



SEMAINE 6

Séquence 17 Séance 1



Séance 1


Module 17

Maths au CE2 © ACCÈS Éditions 2020

Matériel 17 Problèmes

Séance 1

Recherche



Résous chaque problème.

PROBLÈME 1

Hugo a acheté 5 boîtes de 6 œufs.

Combien d'œufs a-t-il achetés en tout?

.....

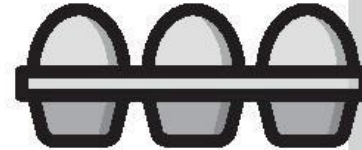
JE CHERCHE

PROBLÈME 2

Aïcha a acheté 4 boîtes de 12 œufs.

Combien d'œufs a-t-elle achetés en tout?

.....



JE CHERCHE

PROBLÈME 3

Marine a acheté une boîte de 6 œufs et une boîte de 12 œufs

Combien d'œufs a-t-elle achetés en tout?

.....

JE CHERCHE

Animation

Séquence 17



À retenir



Animation
Séquence 17

Le TOUT

?
OEUFS

Les parts
égales

12
œufs

12
œufs

12
œufs

12
œufs



SEMAINE 6


Séquence 17 Séance 2



Séance 2
Séquence 17

Léo a acheté 7 boîtes de 6 œufs et 4 boîtes de 10 œufs.




Animation
Séquence 17

Combien d'œufs a-t-il acheté ?



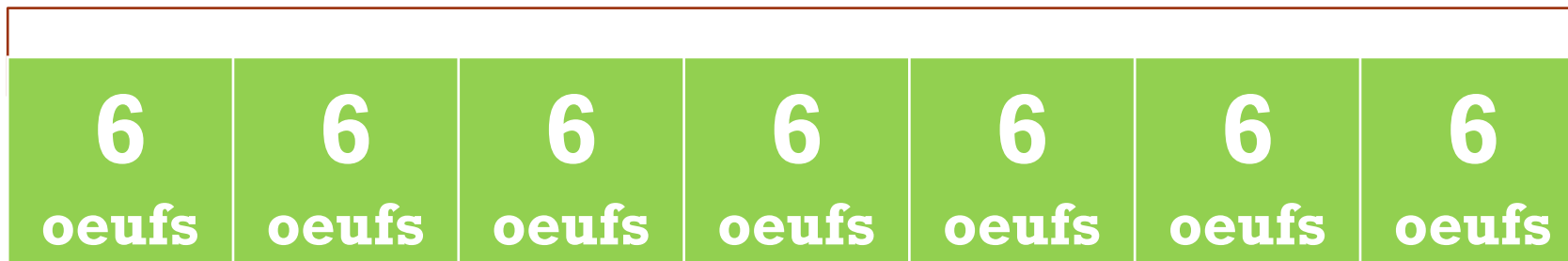
Séance 2

Séquence 17

Mise en commun :

?

oeufs



?

oeufs



?

+

?

=

?



SEMAINE 6

Séquence 17 Séance 3




Séance 3
Séquence 17

+ Fichier élève
Pages 54-55
Ex.1 à 6



SEMAINE 6

Séquence 18 Séance 1



Calcule avec la méthode de ton choix.

$$7 \times 10$$

$$7 \times 100$$



Séance 1
Séquence 18



10×6

9×100

4×10

100×6

Dans 500, combien de fois 100 ?

Dans 80, combien de fois 10 ?



Animation
Séquence 18




Le glisse-nombre



SEMAINE 6

Séquence 18 Séance 2



À l'aide du glisse nombre,

Multiplier 87 par 10

Multiplier 56 par 100

