

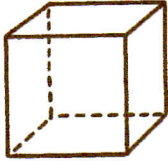


Géométrie

Fiche 20

Les solides

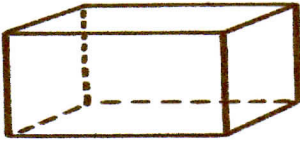
1) Écris le nom de chaque solide et leurs nombres de faces, de sommets et d'arêtes.



Nom : Cube

Nombre de faces : 6 Nombre d'arêtes : 12

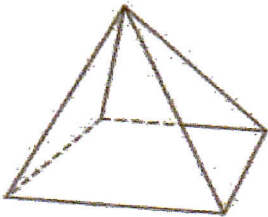
Nombre de sommets : 8



Nom : Pavé droit

Nombre de faces : 6 Nombre d'arêtes : 12

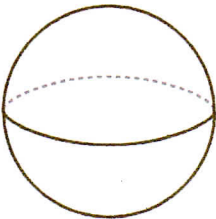
Nombre de sommets : 8




Nom : Pyramide

Nombre de faces : 5 Nombre d'arêtes : 8

Nombre de sommets : 5



Nom : Sphère



Nom : Cylindre

Nombre de faces : 2