








A l'aide des tablettes, complète le tableau ci-dessous:

	$\times 10$	$\times 10$	$\times 10$	$\times 10$	$\times 10$	$\times 10$
						
1 000 000	100 000	10 000	1 000	100	10	1






Ecris avec les chiffres égyptiens les nombres suivants:

18  000000000

608                            

20 301       

# NUMÉRATION EGYPTIENNE

Nombres égyptiens	Réponses
	<b>10 003</b>
	<b>322</b>
	<b>1 000 030</b>
	<b>100 200</b>
	<b>1 201</b>

1789 s'écrira :

