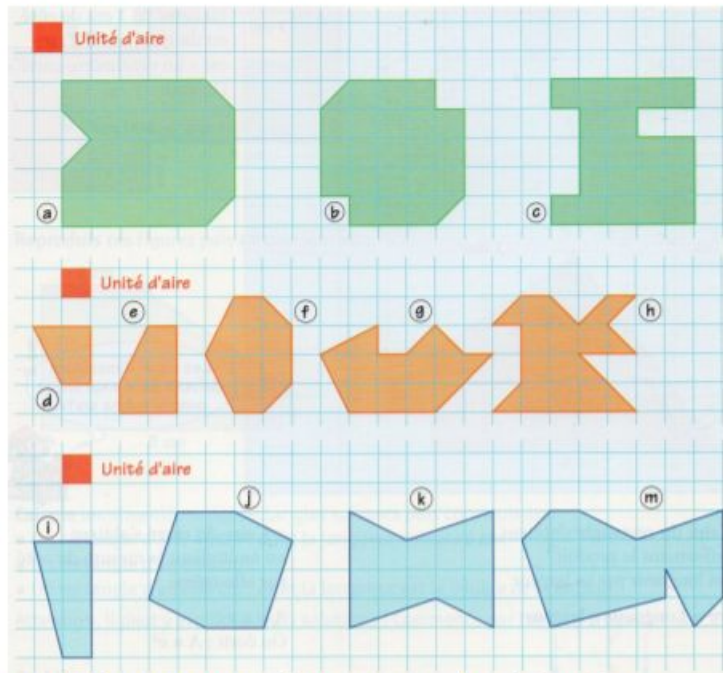
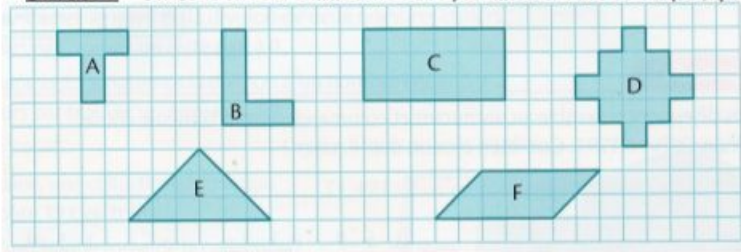


# Correction connaître les unités d'aire – 1

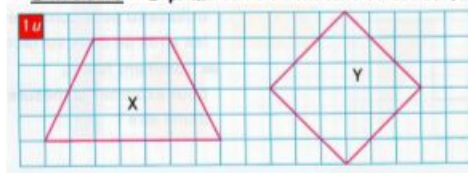
➤ **Exercice 1** : Trouve l'aire de chaque surface à l'aide du carreau rouge, unité d'aire.



➤ **Exercice 2** : Utilise le carreau comme unité d'aire pour mesurer l'aire de chaque figure.



➤ **Exercice 3** : Exprime l'aire de chacune de ces surfaces à l'aide de l'unité u.



## Exercice 1 :

- a) 28 u
- b) 22 u
- c) 20 u
- d) 3 u
- e) 5 u
- f) 9 u
- g) 11 u
- h) 13 u
- i) 6 u
- j) 15 u
- k) 15 u
- m) 20 u

**Exercice 2 :**

- a) 5u
- b) 6 u
- c) 18 u
- d) 13 u
- e) 9 u
- f) 10 u

**Exercice 3 :**

- x) 20 u
- y) 18 u