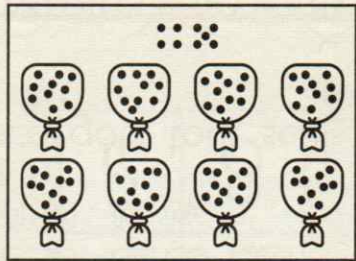


Trace à main levée.

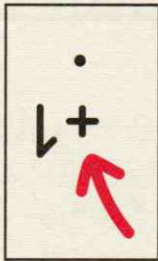
$80 + 19$ +
..... +	98 +
..... +	97	$90 + 7$
$80 + 16$	96 +
$80 + 15$	$90 + 5$
$80 + 14$	$90 + 4$
$80 + 13$	$90 + 3$
$80 + 12$	92	$90 + \dots$
$80 + 11$	91	$90 + \dots$
$80 + 10$	90	$90 + 0$

Complète.

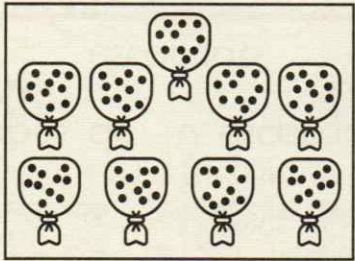
On a 89 billes.



On en ajoute 1.

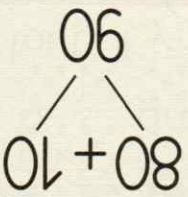


On a 90 billes.



Je sais que le nombre qui vient juste après quatre-vingt-neuf se nomme quatre-vingt-dix.

✓



Écris le nombre qui vient juste avant et celui qui vient juste après.

2

84 — 85 — 86

..... — 94 —

..... — 87 —

..... — 89 —

..... — 81 —

..... — 93 —

Cherche le plus grand nombre que tu peux écrire avec 3 étiquettes.

3

quatre cinq vingt trente vingt treize zéro quatre

quatre-vingt-cinq 85

onze vingt soixante et cinquante quinze vingt quatre

.....

Calcule.

4

$80 + 3 = 83$ $80 + 1 = \dots$ $50 + 30 = \dots$

$90 + 7 = \dots$ $90 + 2 = \dots$ $60 + 20 = \dots$

$80 + 4 = \dots$ $80 + 9 = \dots$ $50 + 40 = \dots$

$90 + 1 = \dots$ $90 + 5 = \dots$ $80 + 10 = \dots$

Complète.

0 10 20