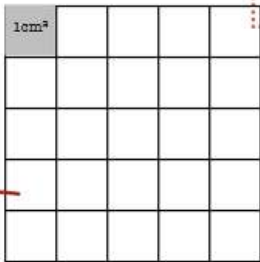


TRACE ECRITE

L'aire du carré et du rectangle

Pour calculer l'aire du carré : (en cm^2)

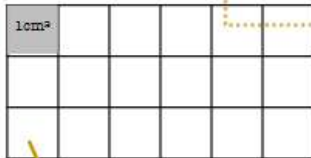
On multiplie 2 côtés :
côté x côté



$5\text{cm} \times 5\text{cm} = 25 \text{ cm}^2$

Pour calculer l'aire du rectangle : (en cm^2)

On multiplie la longueur par la largeur :
Longueur x largeur

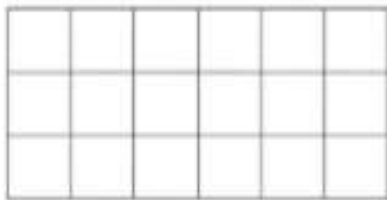


$6\text{cm} \times 3\text{cm} = 18 \text{ cm}^2$

EXERCICES



Ne mesure pas !
On suppose qu'un carreau fait 1 cm sur 1 cm.

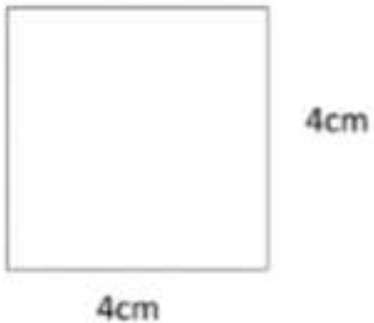


Calculs :

Calculs :

Aire : cm^2 .

Aire : cm^2 .



Calculs :

Calculs :

Aire : cm^2 .

Aire : cm^2 .