

# CM1 - Lundi 11 mai

## Matières

## Consignes

Vocabulaire :  
Leçon V9 Les suffixes

-Lire la leçon V9 Les suffixes, en pièce jointe.  
- Dans le manuel « Mille-feuilles », page 251, faire les étapes 1 et 2 en répondant aux questions « Je me souviens » et « Je découvre »

Géométrie :  
Leçon G9 Les axes de symétrie d'une figure




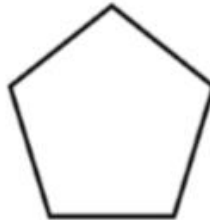
-Lire la leçon G9 en pièce jointe.

-Regarder la vidéo suivante :

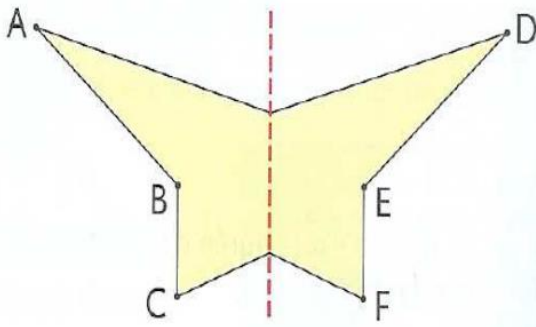
<https://www.youtube.com/watch?v=B-QDk8h8VYo>

-Faire les exercices ci-dessous

Pour chacune des figures, trace si possible, le ou les axe(s) de symétrie :



Observe cette figure. Complète les phrases.



Si on plie en suivant l'axe de symétrie :

- le point A vient sur le point \_\_\_\_
- le point B vient sur le point \_\_\_\_
- le point C vient sur le point \_\_\_\_

**Mesures :**

Leçon M9 Mesurer l'aire d'une surface

-Regarder d'abord la vidéo suivante :

« A quoi servent les unités d'aire ? » :

<https://www.youtube.com/watch?v=Y45QU0eYWuM>

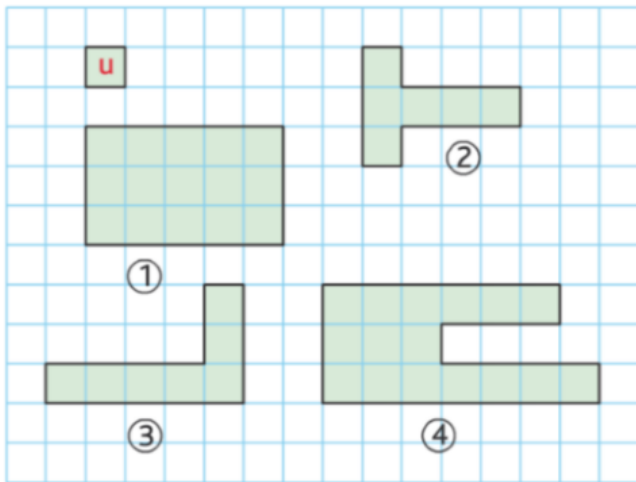
-Lire la leçon M9 en pièce jointe

-Faire les exercices ci-dessous et jouer au jeu

« Le duel des aires » en pièce jointe également

**1** Mesure l'aire de ces surfaces avec les unités proposées.

a. \*




---

---

---

---

---

---

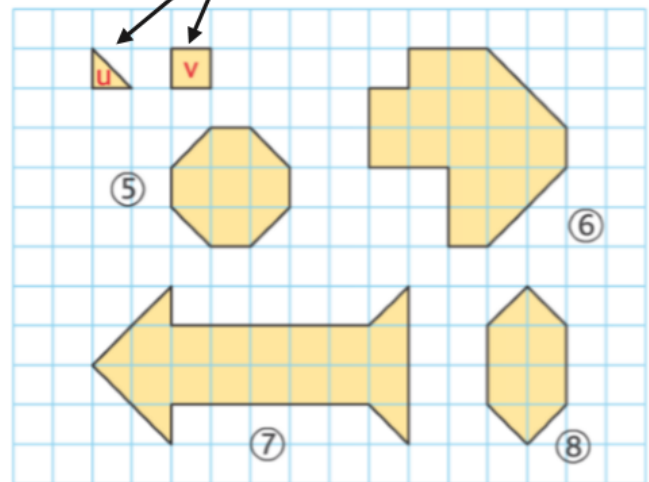
---

---

---

---

b. \*\*




---

---

---

---

---

---

---

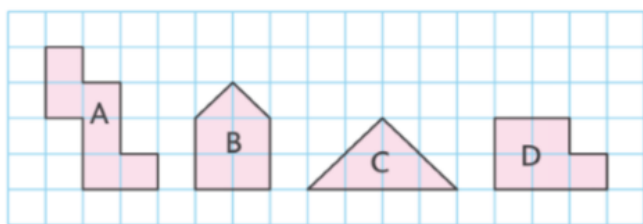
---

---

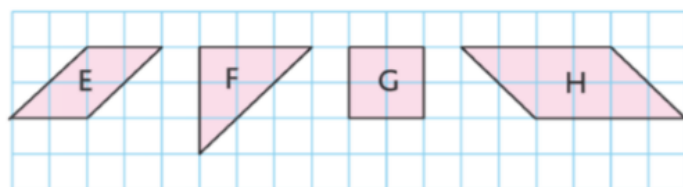
---

2) Mesure les aires de chaque figure, puis classe-les de la plus petite à la plus grande

a. \*



b. \*\*



---

---

---

---

---

---

---

---

---

---

---

---

---

---

---

---

---

---

---

---

Histoire : Le moyen âge

Lire les documents sur Clovis en pièce jointe