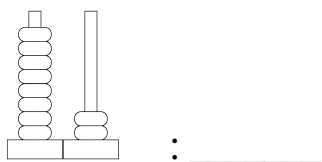
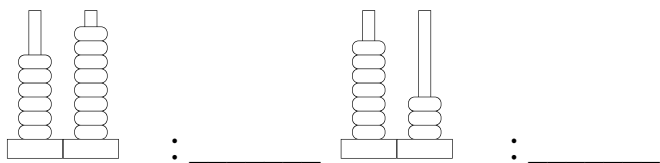


Programme de travail de maths – CP

Rituel : Regarde la décomposition des nombres sur les abaques puis écris à quoi elle correspond.



Calcul mental : les tables d'addition de 1 à 3

$4 + 3 = \dots\dots\dots$ $8 + 2 = \dots\dots\dots$

$7 + 1 = \dots\dots\dots$ $5 + 3 = \dots\dots\dots$

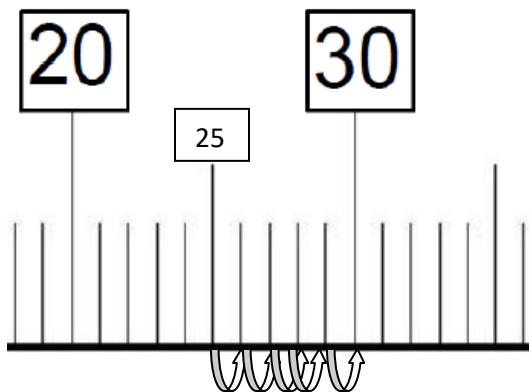
$6 + 2 = \dots\dots\dots$

Résolutions de problèmes : Prends ton mini-fichier et résous un problème.

Apprentissage : la droite graduée

Sur la droite ci-contre, place les nombres suivants : 42 , 26 et 34.

Pour aller de 25 à 30 sur la droite graduée, on fait ceci :



On part de 25 et comme une grenouille, on fait 5 bonds représentés par les flèches pour aller jusqu'à 30.

Comme dans l'exemple, calcule les additions à trous en t'aidant de la droite graduée. Tu peux dessiner les bonds si ça peut t'aider.

- $17 + \dots = 20$
- $31 + \dots = 40$
- $42 + \dots = 50$
- $33 + \dots = 50$

