

Evaluation de géographie - ce2

1. Complète la carte de France sur la deuxième feuille. Repasse les contours en rouge, écris le nom des montagnes et des mers et colorie les montagnes en brun.
2. Complète le tableau suivant :

Nom du massif montagneux	Nom du point culminant	altitude

3. Explique les notions suivantes :

- Qu'est-ce qu'une montagne jeune ? Donne un exemple.

.....

- Qu'est-ce qu'une montagne ancienne ? Donne un exemple.

.....

4. Quelles activités peut-on faire à la montagne ?

- En hiver :

- En été :

5. Réponds Vrai ou Faux.





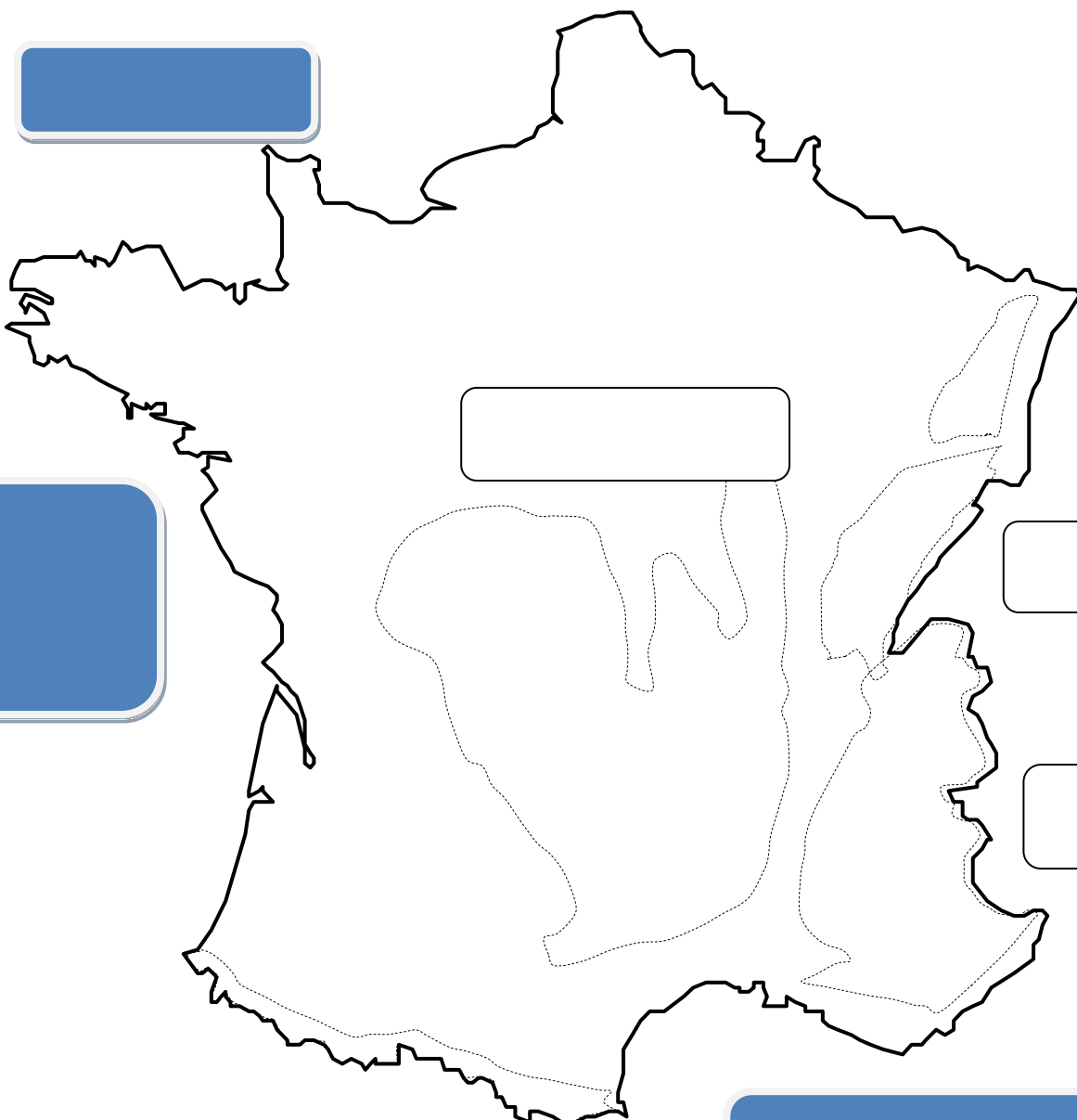

La construction de routes ou de voies ferrées est facile en montagne.

La circulation des hommes et des marchandises est réduite.

L'élevage et l'agriculture sont rares.

Il y a beaucoup d'habitants en haut des montagnes et de nombreux villages.

Les villes se développent dans les vallées.



NORD

