

La monnaie

Colorie les pièces et/ou les billets nécessaires pour avoir la somme indiquée.

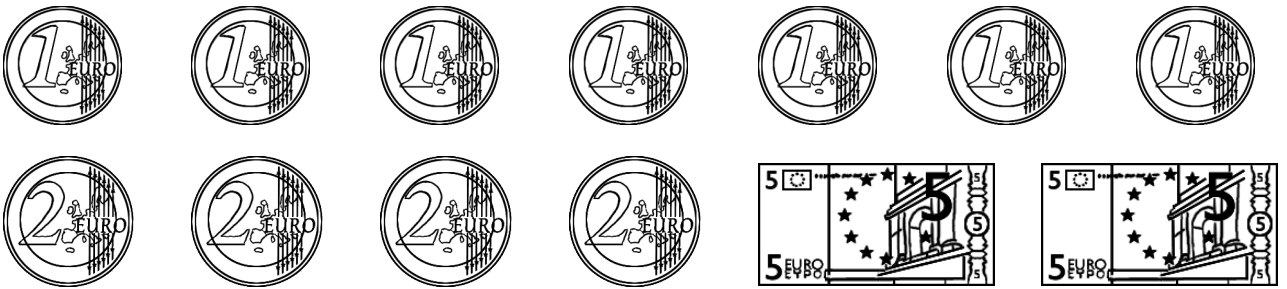
6 €



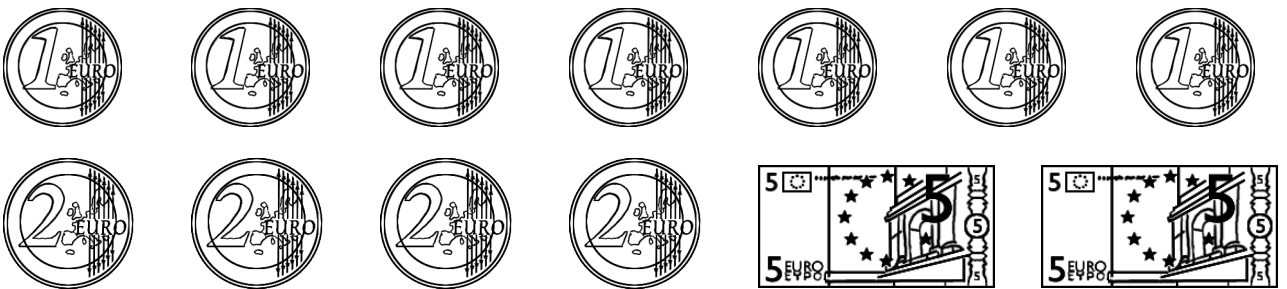
10 €



9 €



13 €



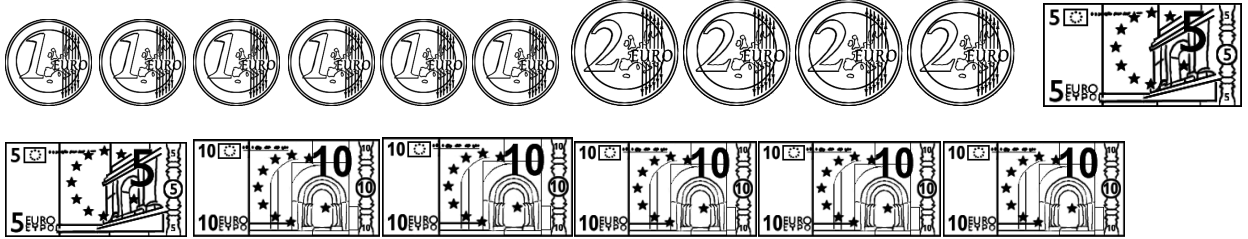
Prénom :

Date :

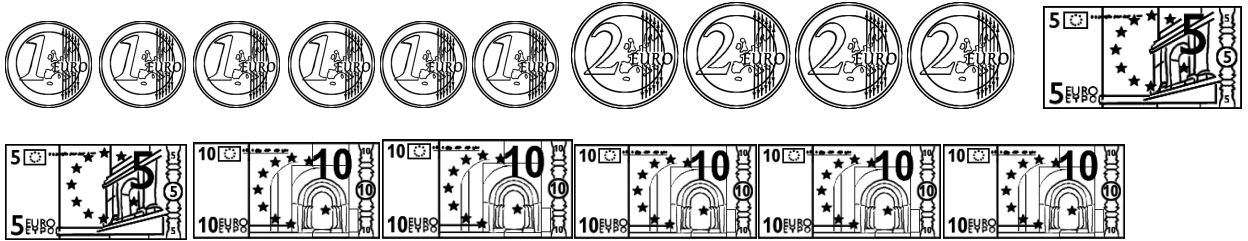
La monnaie

Colorie les pièces et/ou les billets nécessaires pour avoir la somme indiquée.

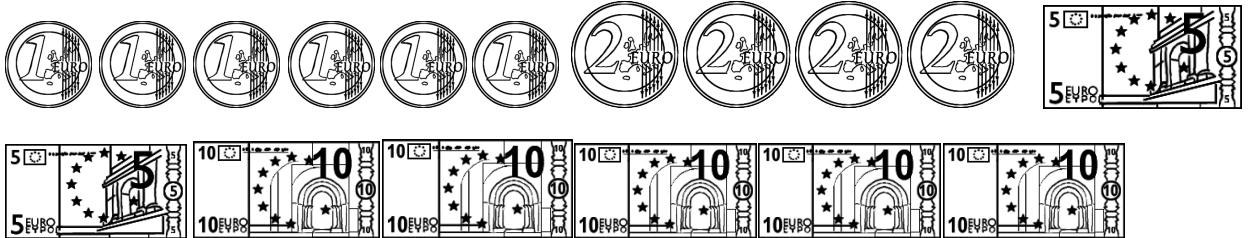
16 €



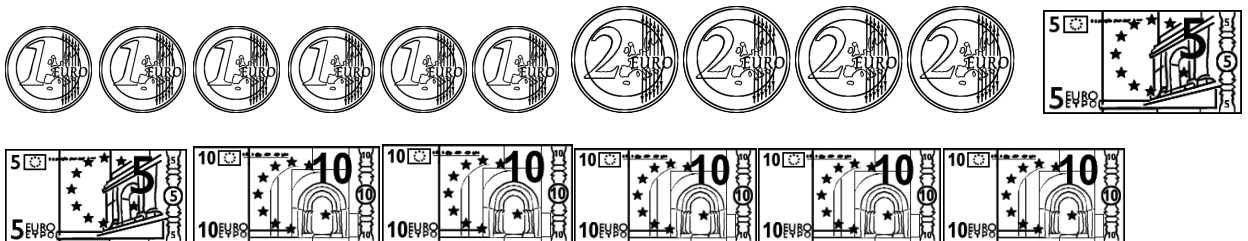
23 €



35 €



44€



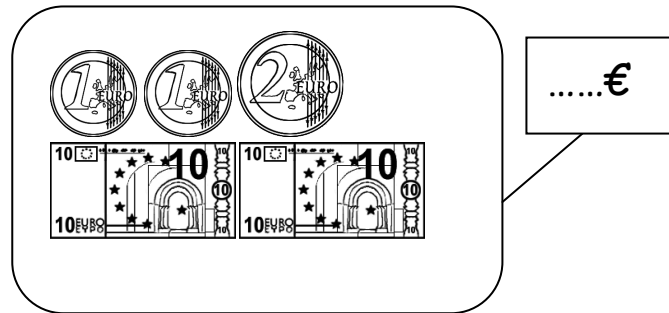
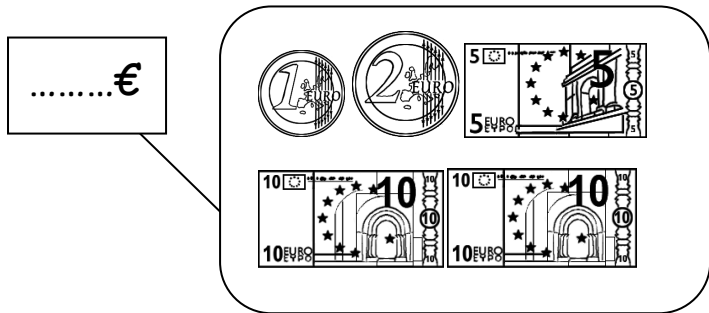
Prénom :

Date :

La monnaie

1. Voici la tirelire de **Natacha**.

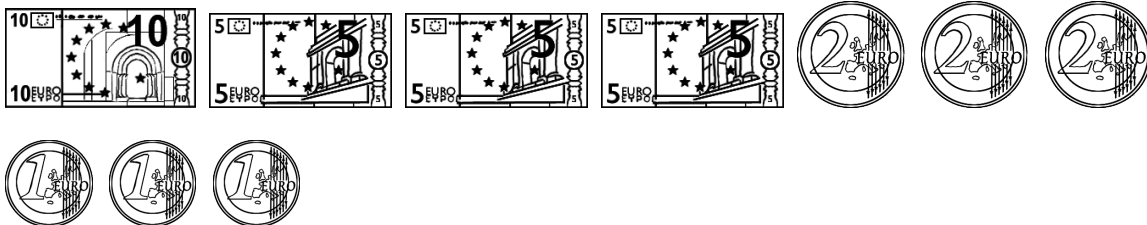
Voici la tirelire de **Florence**.



Qui est la plus riche ?

2. **Jessica** donne 12€ pour acheter une tarte. Colorie en bleu les pièces ou billets qu'elle donne.

Céline donne 7€ pour acheter des bonbons. Colorie en rouge les pièces qu'elle donne.



Combien d'euros leur reste-t-il ? €

3. Maman achète des fruits et légumes sur le marché. Elle doit payer 14 euros. Elle donne un billet de 20 euros. Combien le marchand doit-il lui rendre.

Tu peux t'aider en dessinant.



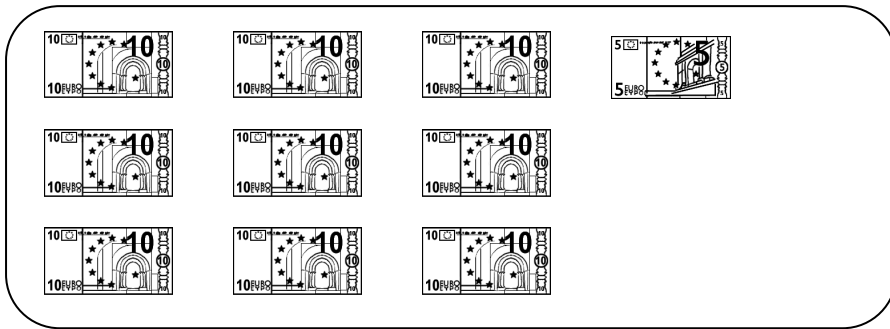
Il lui doit lui rendre €.

Prénom :

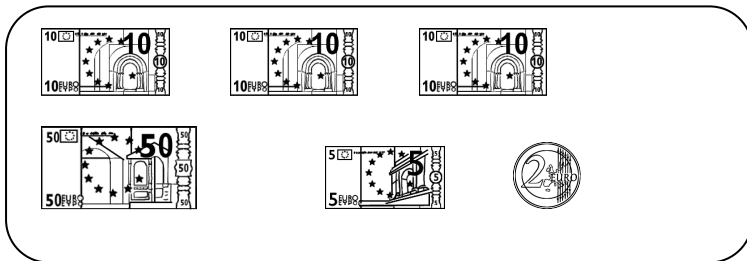
Date :

La monnaie


1. Ecris la somme.



..... €



..... €



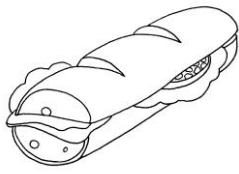

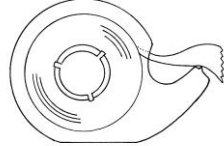

..... €

2. Réponds aux questions.

Dans mon porte-monnaie, j'ai 12 euros.



Voici le prix de différents objets.

			
5 euros	30 euros	3 euros	15 euros

Ai-je assez d'argent pour acheter

- un sandwich ?
- une horloge ?
- un rouleau de scotch ?
- un tipi ?

Prénom :

Date :

La monnaie

3. Voici les étagères de l'épicerie :

2 €



2€



3€



1€



J'achète un litre d'huile et un paquet de sucre.


Combien dois-je donner d'argent à la caissière ?

Calcul :

Je dois donner euros à la caissière.

4. Lorsque je fais les courses :

Je veux acheter **un poulet** qui coûte **7 euros**.



Je **donne 10 euros** à la caissière.

Elle me donne le poulet et me rend la monnaie.

Combien d'argent va me rendre la caissière ?

Calcul :

La caissière va me rendre Euros.

Prénom :

Date :